



Lembar Kerja Peserta Didik LKPD

BEFORE CLASS

MENGENAL TITIK, GARIS, DAN SISI BANGUN DATAR



Nama: _____

Kelas: _____

3



Petunjuk Penggunaan Pembelajaran

Cermati permasalahan yang telah tersedia di LKPD prapembelajaran



Cobalah untuk menyelesaikan permasalahan tersebut berdasarkan pemahamanmu



Buatlah rangkuman dari video pembelajaran tersebut



Simaklah video pembelajaran untuk: Matematika



Cermatilah video “Bangun Datar di Sekitar Kita: Mengenal Titik, Garis, dan Panjang Sisi.”



KEGIATAN 1: ANSWER



AYO CARI TAHU?

Kerjakan soal pemecahan masalah berikut ini!

Kelas 3 SD Nusantara, guru meminta setiap anak membawa atau mengamati benda dari daerah asal masing-masing yang memiliki bentuk bangun datar. Tujuannya agar anak-anak dapat mengenal bangun datar melalui budaya daerah Indonesia dengan cara yang menyenangkan.

Beberapa siswa membawa benda-benda berikut ini:

1. Alya membawa kain batik tulis dari Yogyakarta (Jawa Tengah). Kain batik tersebut digunakan sebagai pakaian adat dan berasal dari Daerah Istimewa Yogyakarta. Jika dilihat dari bentuk keseluruhan kainnya, batik tersebut menyerupai persegi panjang.
2. Bima membawa tampah bambu kecil dari Jawa Barat. Tampah bambu biasanya digunakan oleh masyarakat Jawa Barat untuk menjemur padi atau menyajikan makanan tradisional. Bentuk tampah tersebut menyerupai lingkaran.
3. Citra membawa sapu tangan songket dari Sumatra Barat. Songket merupakan kain tradisional dari Sumatra Barat yang biasa digunakan dalam upacara adat Minangkabau. Sapu tangan songket tersebut berbentuk persegi. Citra menjelaskan bahwa persegi memiliki 4 sisi sama panjang.





Tugas Siswa

1. Sebutkan nama bangun datar dari benda yang dibawa Alya, Bima, dan Citra!
2. Apakah semua sisi pada persegi panjang sama panjang? Jelaskan!
3. Apakah tampah bambu memiliki titik sudut? Mengapa?
4. Coba sebutkan benda di rumahmu yang memiliki bentuk seperti persegi, persegi panjang, atau lingkaran!
5. Jika kamu diminta membuat karya dari bahan bekas, bentuk apa yang akan kamu pilih dan mengapa?

KEGIATAN 2: Kegiata Pembelajaran



AYO BELAJAR

Saksikanlah video berikut ini untuk mengenal titik, garis, sisi pada bangun datar!

Matematika



https://youtu.be/H5u5rXwu_tE?feature=shared

Quiz



Ayo Mencoba!

Mengenali Bangun Datar



Persegi



Segitiga





Lingkaran




Belah Ketupat

Perhatikan gambar di bawah ini kemudian pindahkan nama bangun datar di atas, kedalam kotak yang berisi makanan tradisional sesuaikan bangun datar apa gambar tersebut!











Ayo Mencoba!

Mengenali Bangun Datar

cocokkanlah makanan tradisional berikut dengan bangun datarnya, menggunakan garis lurus!

Lapis Legit




Persegi



Onde-onde



Segitiga



Nagasari




Persegi Panjang

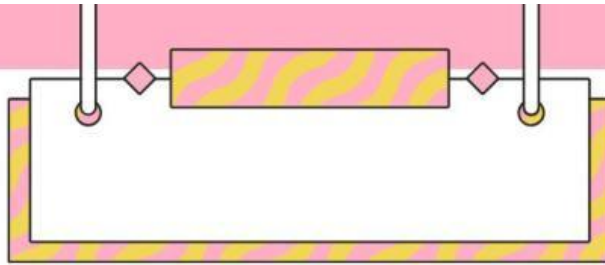


Wajik



Lingkaran





Tugas Siswa

Setelah menyimak video di atas, buatlah rangkuman atau resume dengan gaya bahasamu sendiri!
