






LATIHAN SOAL

Nama : _____ Kelas : _____

PECAHAN SEDERHANA

Gambar	Pertanyaan	Jawaban
	Ada berapa banyak pizza pada gambar disamping?	
	Berapa banyak bagian pizza saat ini?	
	setiap bagian memiliki berapa pizza?	
	Berapa banyak bagian kimbab itu saat ini?	
	<ol style="list-style-type: none"> Berapa banyak coklat yang Dina miliki? Berapa banyak potong coklat pada 1 bagian tersebut? 	