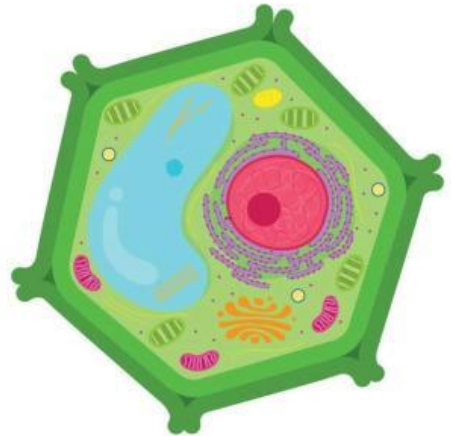
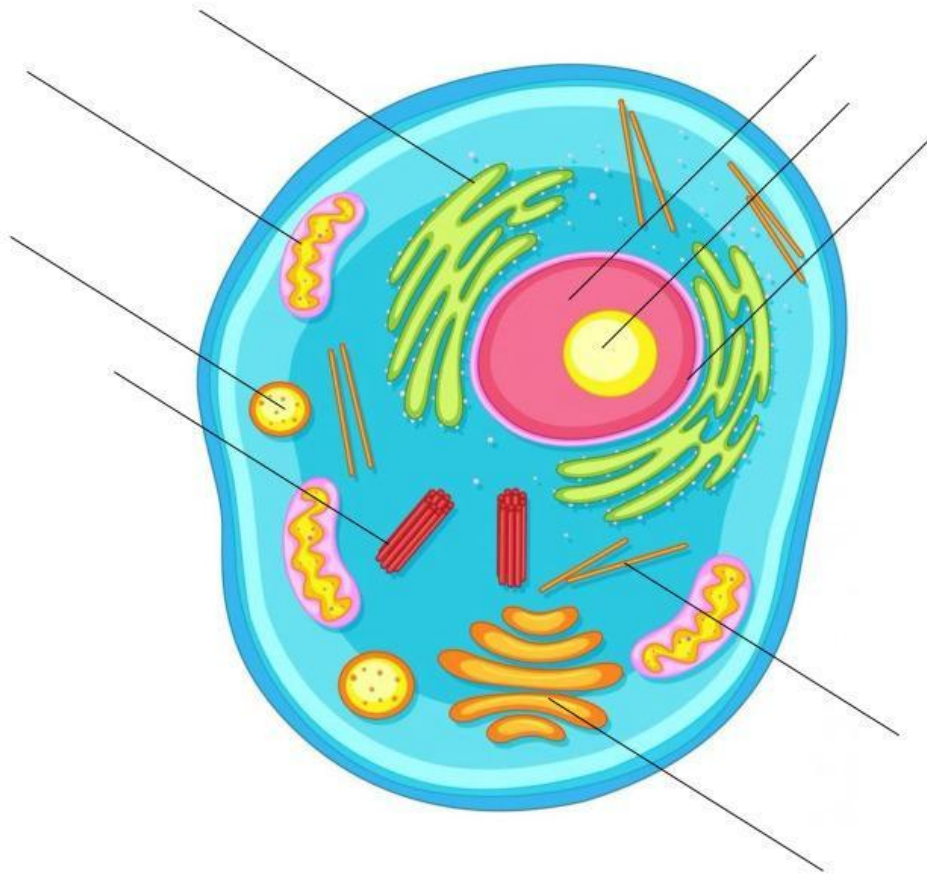


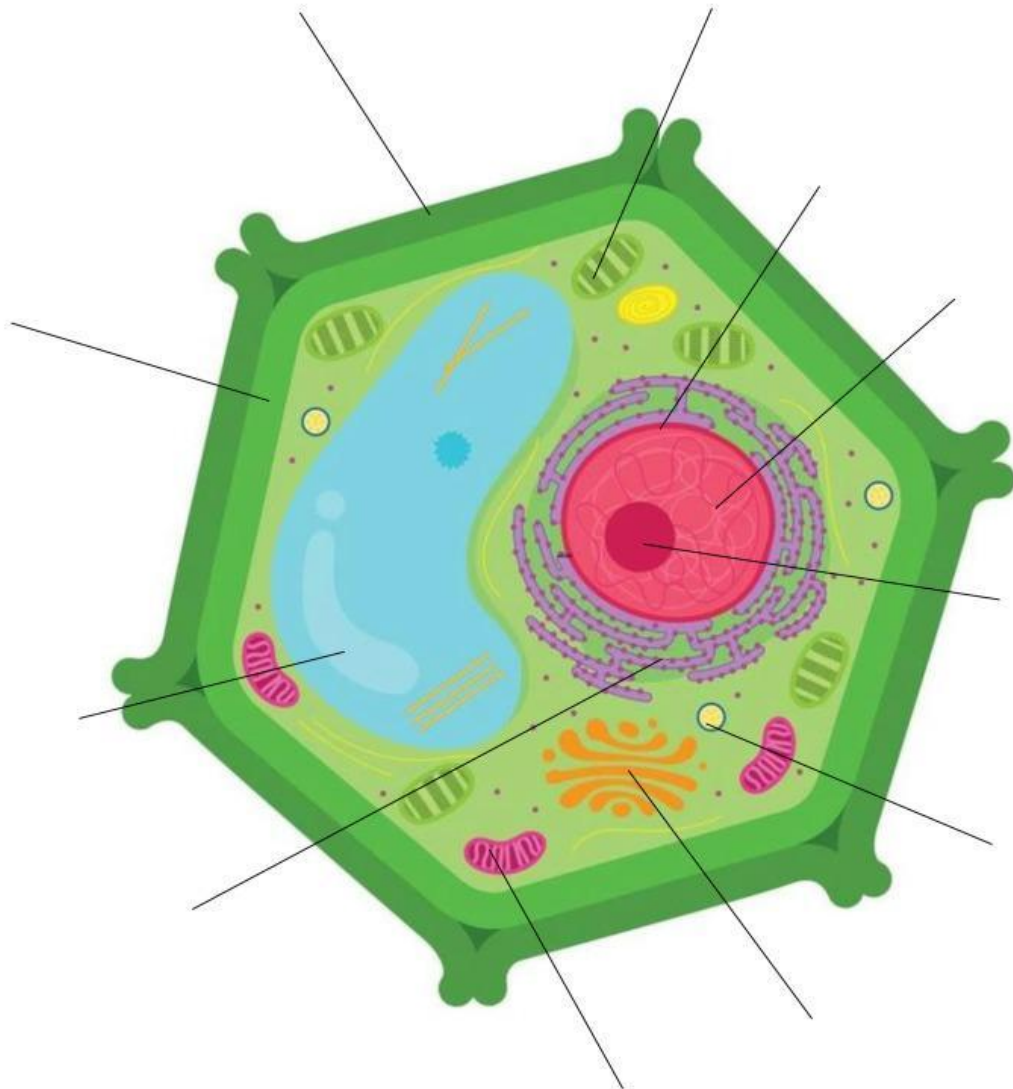
I. SELECCIONA EL NOMBRE DE LAS CELULAS CORRECTAS



II. IDENTIFICA LAS PARTES DE LA CELULA ANIMAL



III. IDENTIFICA LAS PARTES DE LA CELULA VEGETAL



IV. LEE LAS SIGUIENTES CARACTERISTICAS Y LUEGO ESCOJE A QUE PARTE DE LA CELULA CORRESPONDE

1. Contiene el ADN. \_\_\_\_\_
2. Se encuentra dentro del núcleo. \_\_\_\_\_
3. Contiene todos los organelos. \_\_\_\_\_
4. Controla la entrada y salida de sustancias. \_\_\_\_\_
5. Mantiene la forma de la célula \_\_\_\_\_
6. Almacenan aguas, sales y otras sustancias. \_\_\_\_\_
7. Encargado del proceso de fotosíntesis. \_\_\_\_\_
8. Realiza la digestión celular. \_\_\_\_\_
9. Recibe y empaqueta los productos. \_\_\_\_\_
10. Realiza el proceso de respiración celular. \_\_\_\_\_

V. COMPLETA LA TABLA ENUNCIANDO LA DIFERENCIA ENTRE CELULA VEGETAL Y CELULA ANIMAL

	CELULA ANIMAL	CELULA VEGETAL
PARTES		
FORMA		
TAMAÑO		