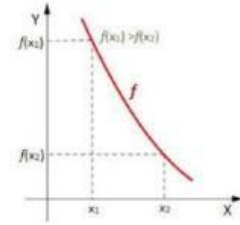


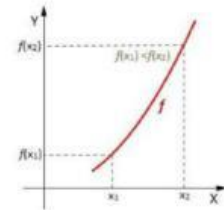
## CONOCIMIENTOS PREVIOS

### Unir la respuesta correcta

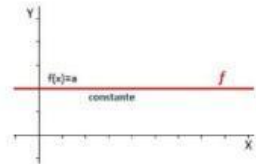
1.- Función decreciente



2.-  $a > 0$



3.-  $a = 0$



### Escoger la respuesta correcta

1.- Función lineal

2.- Función cuadrática

3.- Función valor  
absoluto

4.- Función constante

## UNIR

1.-  $1 + 1 =$

3

2.-  $1 + 2 =$

2

2.-  $1 + 5 =$

6

## ESCOGE TU RESPUESTA

cuanto es  $1 + 1$

cuanto es  $2 + 1$

cuanto es  $2 \times 1$

cuanto es  $2 - 1$