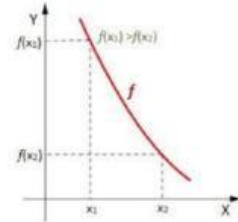


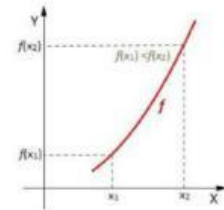
## CONOCIMIENTOS PREVIOS

### Unir la respuesta correcta

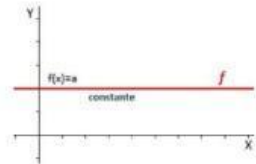
1.- Función decreciente



2.-  $a > 0$



3.-  $a = 0$



### Escoger la respuesta correcta

1.- Función lineal

2.- Función cuadrática

3.- Función valor  
absoluto

4.- Función constante

