

LKPD

Matematika

Tema: Durasi dan Waktu
kelas 5



Nama penyusun :
Fransiska Alya Oktaviani
34302400012

Nama

Kelas

Jam berapakah sekarang?

PETUNJUK :

Tentukan waktu yang tepat sesuai dengan gambar jam.

1.



15 : 38

2.



..... :

3.



..... :

4.



..... :

5.



..... :

6.





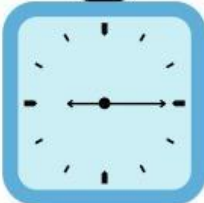







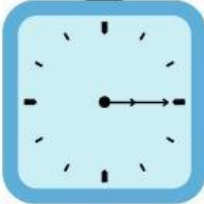



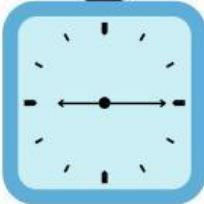


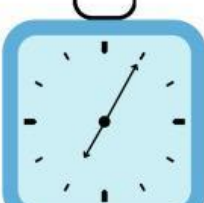
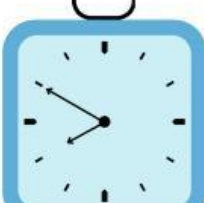
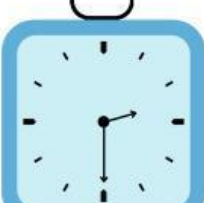
..... :

Nama

Nama

Mengenali Waktu Salat

PETUNJUK : Berilah tanda centang (✓) pada gambar jam di bawah ini yang menunjukkan waktu salat yang benar!

SUBUH 	=	<input checked="" type="checkbox"/> 	<input type="checkbox"/> 	<input type="checkbox"/> 
DZUHUR 	=	<input type="checkbox"/> 	<input type="checkbox"/> 	<input type="checkbox"/> 
ASHAR 	=	<input type="checkbox"/> 	<input type="checkbox"/> 	<input type="checkbox"/> 
MAGHRIB 	=	<input type="checkbox"/> 	<input type="checkbox"/> 	<input type="checkbox"/> 
ISYA 	=	<input type="checkbox"/> 	<input type="checkbox"/> 	<input type="checkbox"/> 

Nama

Nama

CERITA SINGKAT

PETUNJUK : Baca cerita singkat berikut dan jawab pertanyaan dengan benar!



Arsa berangkat sekolah pada pukul 7:00 pagi. Dia tiba di sekolah pada pukul 7:30. Pelajaran dimulai pada pukul 8:00. Saat istirahat, pukul 10:00, arsa makan bekal yang dibawanya. Sekolah selesai pukul 1:00 siang dan arsa pulang ke rumah.

1. Pukul berapa Arsa berangkat sekolah?

.....**07**..**00**.....

2. Pukul berapa pelajaran dimulai?

.....

3. Pukul berapa arsa makan bekal?

.....