

ACTIVITAT 1 | CÀLCUL IMMEDIAT

Completa les operacions següents:

a. $21 + 35 =$ _____

b. $48 - 13 =$ _____

c. $13 \times 3 =$ _____

d. $40 : 4 =$ _____

e. $46 + 28 =$ _____

Marca amb una X el requadre que té l'opció correcta:

f. 5^2 és igual a:

<input type="checkbox"/>	25
<input type="checkbox"/>	10
<input type="checkbox"/>	7

ACTIVITAT 2 | PROBLEMES DE CÀLCUL

Resol els problemes següents i escriu la resposta al damunt de la ratlla.

- a. En una bossa hi caben 8 pomes. Quantes n'hi ha en 4 bosses?

_____ pomes

- b. Cada dia dediques mitja hora a l'esport que t'agrada. Després de 4 dies, quantes hores hi hauràs dedicat?

_____ hores

- c. Si a cada cotxe ple hi caben 5 persones, quants cotxes plens necessites per col·locar 30 persones?

_____ cotxes

- d. Has comprat material per a la teva impressora que t'ha costat 13 euros. Si has pagat amb un bitllet de 20, quants euros et tornaran de canvi?

_____ €

ACTIVITAT 3 | SEQÜÈNCIES

Troba els valors que falten dins de la sèrie.

EXEMPLE

Quin nombre escriuries a continuació?

1, 5, 9, _____

Com que 13 és la solució, l'has d'escriure al damunt de la ratlla.

1, 5, 9, 13

- a. Quin nombre escriuries a continuació?

2 7 12 _____

- b. Quin nombre escriuries a la tercera posició?

Primera posició	Segona posició	Tercera posició	Quarta posició
210	180	_____	120

c. Troba el nombre decimal que ve a continuació:


6,4 6,8 7,2 _____

d. Escriu el nombre de quadrets que hi haurà a la quarta posició.
Si vols, pots ajudar-te fent el dibuix que hi falta.

Primera posició *Segona posició* *Tercera posició* *Quarta posició*



12



9



6

ACTIVITAT 7 | COMPLETA OPERACIONS

Escriu damunt de la ratlla els nombres que completen les igualtats següents:

EXEMPLE

$$0,65 + \underline{\hspace{2cm}} = 1$$

Com que 0,35 és la solució,
l'has d'escriure al damunt de la ratlla.

$$0,65 + \underline{0,35} = 1$$

a. $0,40 + \underline{\hspace{2cm}} = 1$

b. $1 - \underline{\hspace{2cm}} = 0,30$

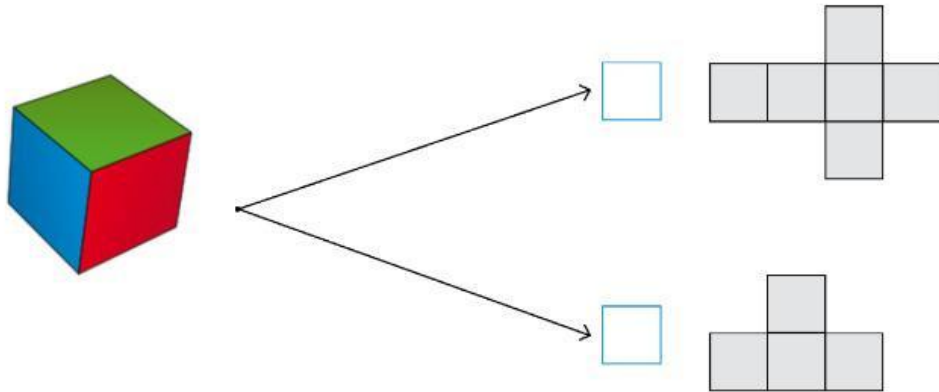
c. $\underline{\hspace{2cm}} \times 100 = 800$

d. $56 : \underline{\hspace{2cm}} = 5,6$

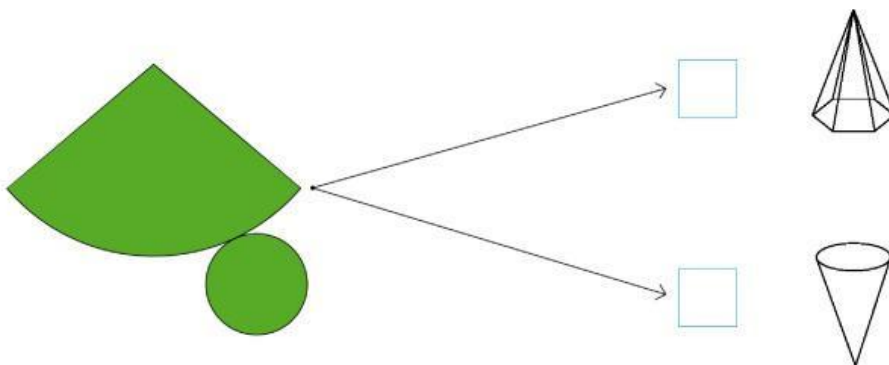
ACTIVITAT 4 | DESPLEGAMENT DE FIGURES

Marca amb una X el requadre de la resposta correcta entre les dues opcions donades.

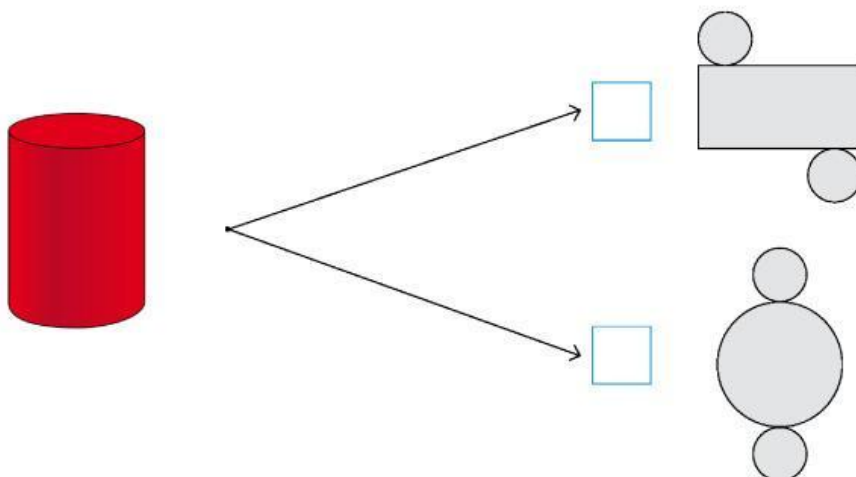
a.



b.



c.



ACTIVITAT 5 | BITLLETS D'AVIÓ

Una família de 4 persones vol fer un viatge amb avió. El preu de cada bitllet és de 120 €.

a. Quants euros valen els 4 bitllets d'avió?

Resposta: _____ €

Sabem que una companyia aèria fa l'oferta següent:

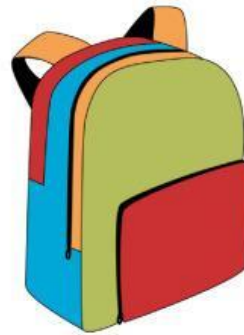


b. Si la família decideix aprofitar l'oferta, quants euros valen els 4 bitllets d'avió?

Resposta: _____ €

ACTIVITAT 6 | ETIQUETES DE MESURES

Et presentem les imatges d'una noia i d'una motxilla escolar. Has d'escollir quina de les etiquetes associades et sembla més correcta a l'alçada de la noia i al pes i preu de la motxilla escolar.



Marca amb una X la mesura corresponent a l'etiqueta que et sembla més correcta en cada cas.

Alçada de la noia

- 270 cm
- 0,13 m
- 1,67 m

Preu de la motxilla

- 0,50 €
- 23 €
- 2.000 €

Pes de la motxilla buida

- 700 g
- 28 kg
- 9 kg