

LKPD

Matematika Kelas 2

Tema : posisi benda

Disusun oleh : Ghina Naila
Nim.: 34302400098





Capaian pembelajaran



Peserta didik dapat menentukan posisi benda terhadap benda lain. (kanan, kiri, depan belakang).



Tujuan Pembelajaran

- Peserta didik mampu menginterpretasikan posisi benda di lingkungan sekitar menggunakan kosakata spasial yang tepat.
- Peserta didik mampu membedakan dan memilih gambar yang menunjukkan posisi benda di dalam atau di luar suatu bentuk.
- Peserta didik mampu menentukan posisi atau koordinat objek pada kolom tabel berdasarkan titik pertemuan garis.



Nama :

Kelas :

Posisi Benda di Sekitar

Lengkapi kalimat berikut dengan kata yang ada untuk menunjukkan posisi benda.



lengkapi dengan kata : atas, bawah, kanan, kiri, depan dan belakang. setiap kata hanya digunakan satu kali.

1. Bola berada di _____ meja.
2. Sapu berada di _____ kucing.
3. Vas bunga berada di sebelah _____ cangkir.
4. Buah apel berada di _____ kucing.
5. Kucing duduk di _____ keset bundar.
6. Kue berada di sebelah _____ cangkir.


Nama: _____

Kelas: _____


TEBAK POSISI BENDA

Pilihlah gambar yang menunjukkan posisi hewan di dalam atau di luar bentuk yang sesuai dengan memberikan tanda (✓) pada kotak jawaban yang menurutmu paling benar.


Gambar mana yang menunjukkan gajah di dalam lingkaran?

☐☐

Gambar mana yang menunjukkan ayam di luar lingkaran?

☐☐

Gambar mana yang menunjukkan tikus di dalam lingkaran?


☐☐

Nama :

Kelas :

KODING POSISI BENDA (TITIK KOORDINAT)

Tentukan posisi atau koordinat objek sesuai kolom!



(E, 7)

