

LKPD

Lembar Kerja Peserta Didik

unsur dan sifat bangun datar
sederhana kelas 3 SD




Disusun oleh :

Fatimatuz zahro (34302400143)

pendidikan Guru Sekolah Dasar

Fakultas Keguruan Ilmu Pendidikan



UNSUR DAN SIFAT BANGUN


Menarik garis sifat dan unsur dengan bangun lain. 

Nama Siswa: _____

Kelas: _____


Unsur: Tidak punya sisi, tidak punya sudut.

Sifat: Garis lengkung tunggal, simetri tak hingga.




Unsur: 4 sisi, 4 titik sudut, 4 sudut.

Sifat: Sisi berhadapan sama panjang, 4 sudut siku-siku, simetri putar 2




Unsur: 3 sisi, 3 titik sudut, 3 sudut.

Sifat: Jumlah semua sudutnya 180 derajat



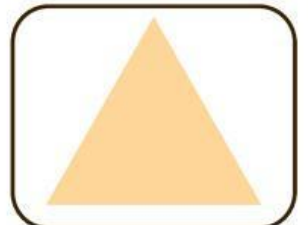
Unsur: 4 sisi, 4 titik sudut, 4 sudut.

Sifat: 4 sisi sama panjang, 4 sudut siku-siku (90°), simetri lipat/putar 4.



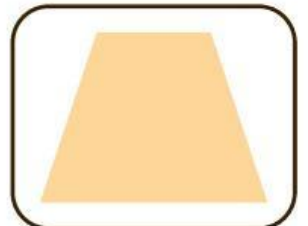
Unsur: Segi empat, memiliki 4 sisi, 4 sudut, 2 diagonal.

Sifat: Hanya punya satu pasang sisi sejajar (sisi alas dan atas). Jumlah semua sudutnya 360°



Unsur: sisi, titik sudut, dan diagonal, sementara

Sifat: sudut berhadapan sama besar, diagonalnya saling tegak lurus, membagi dua sama panjang, serta jumlah sudut berdekatan 180° .



SOAL CERITA UNSUR DAN SIFAT BANGUN DATAR!

Petunjuk: Isilah jawaban yang benar!

Nama Siswa: _____ Kelas: _____

Contoh

Ani memiliki sapu tangan berbentuk persegi.

Sapu tangan tersebut memiliki 4 sisi sama panjang.

Pertanyaan:

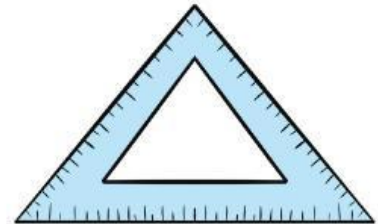
- 4
- 1. Berapa jumlah sisi pada bangun tersebut? • 2
- 2. Apakah semua sisinya sama panjang? • Tidak
- Iya



Zara mempunyai penggaris berbentuk segitiga.

Pertanyaan:

1. Berapa jumlah sisi pada bangun segitiga?
2. Berapa jumlah sudutnya?



Jam dinding dikelas berbentuk lingkaran

Pertanyaan:

1. Apakah lingkaran memiliki sudut?
2. Berapa jumlah sisinya?



Buku tulis Budi berbentuk persegi panjang. Buku tersebut memiliki 4 sudut siku-siku.

Pertanyaan:

1. Berapa jumlah sudut pada bangun persegi panjang tersebut?....
2. Apakah semua sisinya sama panjang?



UNSUR DAN SIFAT BANGUN DATAR!

Petunjuk: Mencentang jawaban yang benar di bawah ini!

Nama Siswa: _____ Kelas: _____

1. Bangun datar yang memiliki 3 sisi dan 3 sudut adalah...



[.....]



[.....]

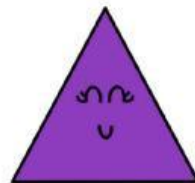


[.....]

2. Bangun datar yang memiliki 4 sisi sama panjang 4 sudut siku-siku adalah ...



[.....]



[.....]



[.....]

3. Bangun datar yang tidak memiliki sudut adalah...



[.....]



[.....]



[.....]

4. Bangun datar yang memiliki sisi melengkung adalah....



[.....]



[.....]



[.....]