

KELAS VI
TEMA 8 SUBTEMA 1
IPA

TUGAS E – LKPD
NIA KURNIAWATI, S. Pd.
UPTD SDN RANCAMULYA

NAMA :

KELAS :

A. VIDEO

Klik dan simak video pembelajaran berikut ini dengan baik!




B. MP3

Klik tanda play dibawah ini dan dengarkan lagunya dengan seksama!




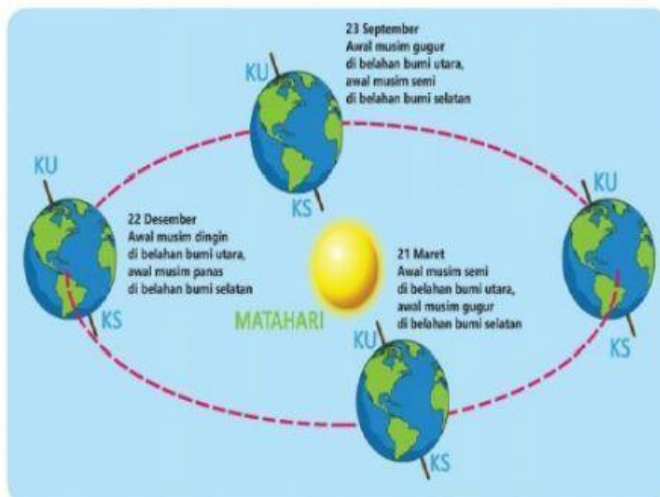
C. OPEN ANSWER

Setelah mendengarkan lagu di atas, tuliskan sebanyak mungkin informasi yang kamu dapatkan dikolom yang telah disediakan!



D. DROP AND DOWN

Gambar di bawah ini menunjukkan bahwa Planet Bumi mengalami?
Silahkan pilih dan klik jawaban yang benar di kotak yang disediakan!



E. PILIHAN GANDA

Perhitungan tahun pada kalender masehi didasarkan pada
Jawab dan klik pada huruf A, B, atau C!

A Lama waktu bumi berputar pada porosnya

B Lama waktu bumi berputar mengelilingi matahari

C Lama waktu bulan berputar pada porosnya

F. KOTAK CENTANG

Berilah tanda centang pada hal-hal dibawah ini yang menunjukkan akibat dari revolusi bumi!

Penanggalan kalender Masehi

Terjadinya siang dan malam

Terjadinya gerak semu matahari

Perbedaan 4 musim di wilayah subtropis

G. MENJODOHKAN DENGAN GARIS

Tariklah garis dari kotak sebelah kiri dengan pasangannya di kotak sebelah kanan yang menyatakan akibat dari rotasi dan revolusi bumi!

Perputaran bumi yang mengakibatkan perbedaan lamanya waktu siang dan malam

Perputaran bumi yang mengakibatkan perbedaan wilayah waktu di Bumi

Posisi matahari yang berubah-ubah karena bumi mengalami revolusi dengan sumbu rotasi yang miring

Rotasi Bumi

Revolusi bumi

Gerak Semu Matahari

H. DRAG AND DROP

Klik dan seret ke arah garis gambar-gambar dibawah ini sehingga menjadi urutan 4 musim yang benar!

