



LKPD



MATEMATIKA KELAS 1 MENGENAL BENTUK

Sub Materi: Mengurai Bentuk Bangun



Disusun oleh Nurunnajmi Awaliyah
PGSD FKIP UNISSULA 2025



Tujuan Pembelajaran



Setelah mengikuti kegiatan pembelajaran, peserta didik kelas I diharapkan mampu:

1. Mencocokkan bangun gabungan dengan bagian-bagian penyusunnya berupa segitiga, segi empat, dan bentuk lengkung melalui kegiatan menarik garis dengan tepat.
2. Menentukan jumlah masing-masing bangun datar segitiga, segi empat, dan bentuk lengkung pada satu gambar gabungan melalui kegiatan mengamati dan menghitung dengan benar.
3. Mengisi tabel jumlah bangun datar pada beberapa gambar gabungan berdasarkan hasil pengamatan secara tepat.
4. Mengelompokkan bagian-bagian bangun datar ke dalam tabel sesuai dengan gambar gabungan melalui kegiatan mencocokkan bentuk yang sesuai dengan benar.



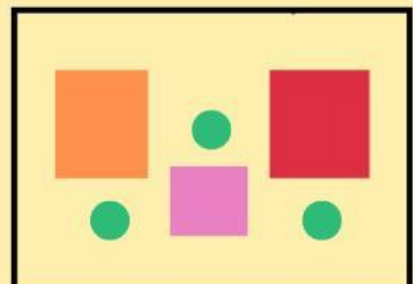
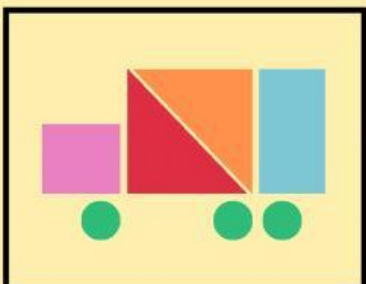
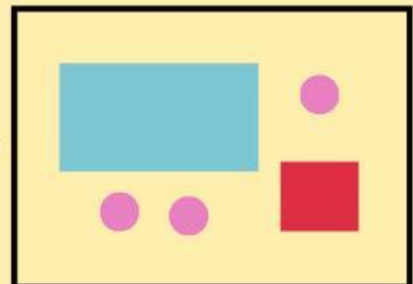
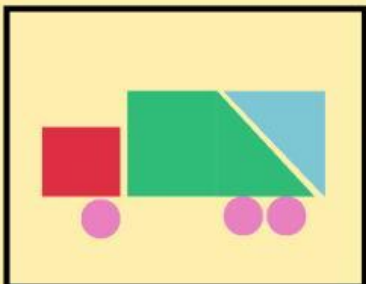
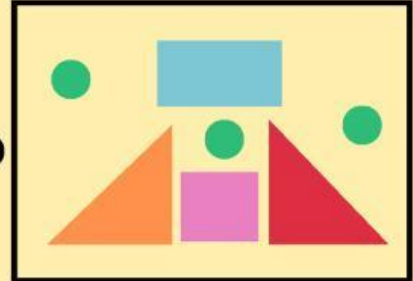
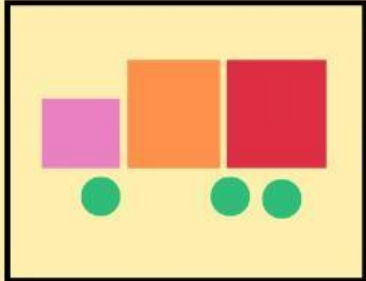
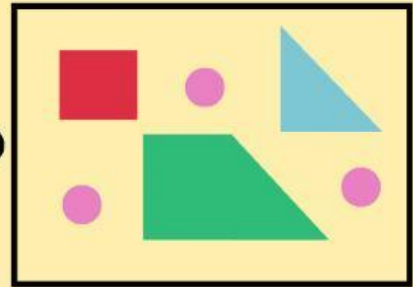
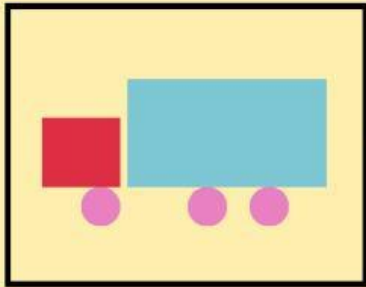
Nama :

Kelas :

KEGIATAN 1: MENCOCOKKAN SUSUNAN BANGUN

Petunjuk

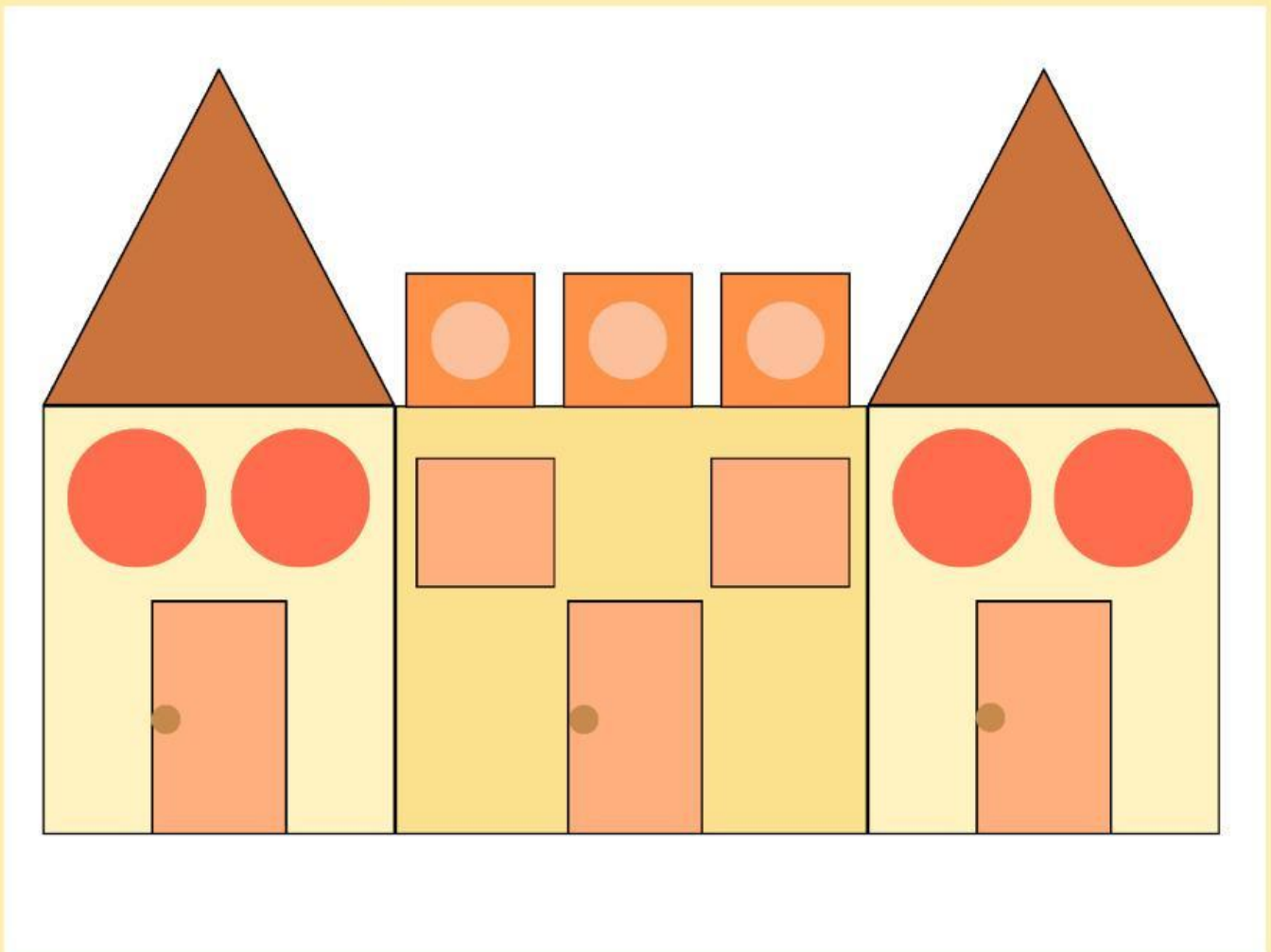
Tarik garis untuk menghubungkan setiap bentuk dengan bagian yang sesuai.



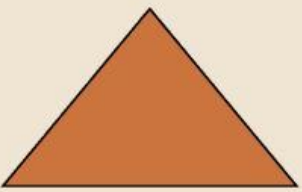


KEGIATAN 2: MENGHITUNG BANGUN DATAR



Hitung jumlah bangun datar di bawah ini.
Tuliskan angkanya di tempat yang benar, ya!




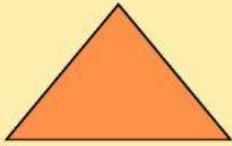



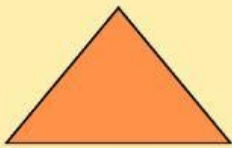







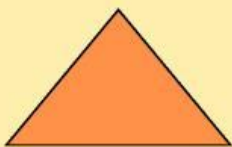


		
<input type="text"/>	<input type="text"/>	<input type="text"/>

KEGIATAN 3: MENGHITUNG BENTUK

Petunjuk

Uraikan bentuk bangun datar di bawah ini dan hitung jumlah setiap bangun datarnya!

	 <input type="text"/>	 <input type="text"/>	 <input type="text"/>
	 <input type="text"/>	 <input type="text"/>	 <input type="text"/>
	 <input type="text"/>	 <input type="text"/>	 <input type="text"/>
	 <input type="text"/>	 <input type="text"/>	 <input type="text"/>

KEGIATAN 4: MENGURAI BENTUK

Petunjuk

Uraikan bentuk bangun datar di bawah ini dari susunannya!

