

# LKPD

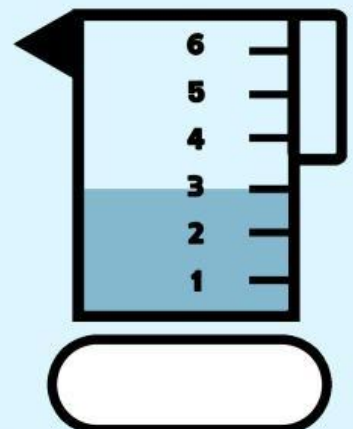

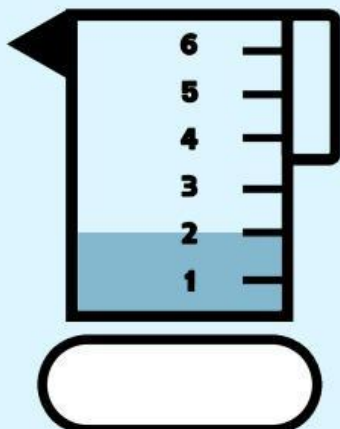
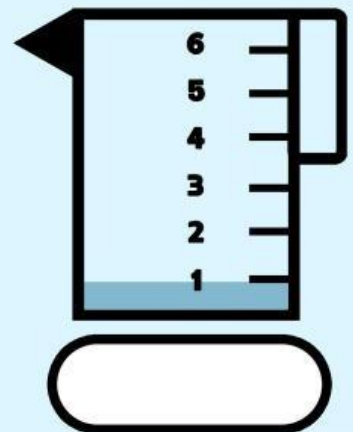
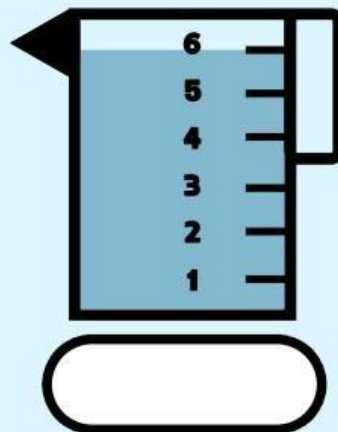
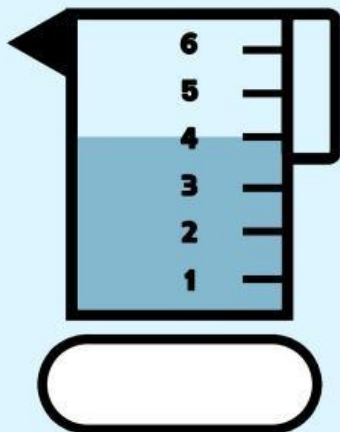
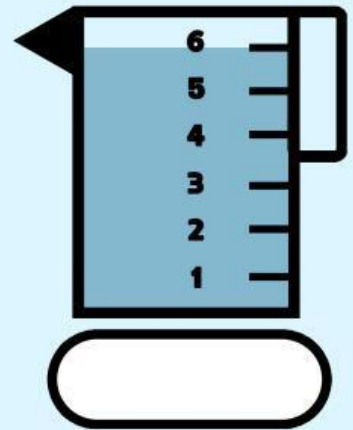

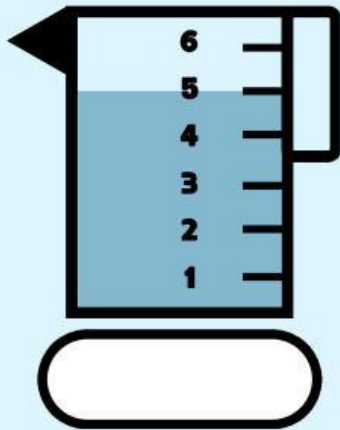
Kelas 1



By. Yanuarin Devita Amelia, S. Pd

# Volume dan Kapasitas

Tentukan volume cairan yang ada di dalam gelas



# Hitung masing-masing gambar







# ADDITION AND SUBTRACTION





**DIRECTIONS :**


Fill with the correct answer!


$5 + 3 =$  


$9 - 3 =$  


$4 + 2 =$  


$8 - 4 =$  


$3 + 1 =$  


$7 - 6 =$  


$1 + 2 =$  


$6 - 2 =$  


$3 + 4 =$  

$5 - 3 =$  

$6 + 4 =$  

$4 - 1 =$  

$7 + 3 =$  

$3 - 2 =$  



# Kasih Sayang Orang Tua

Hubungkan kalimat di bawah ini dengan gambar yang tepat!

Ibu membimbingku belajar.



Ayah membacakan cerita untukku dan adik.



Ayah mengajariku naik sepeda.



Ibu menyiapkan sarapan.



Ayah dan ibu berdoa untuk anak-anaknya.



# BELAJAR MELENGKAPI KALIMAT

Lengkapilah kalimat di bawah ini dengan tepat!



Ibu sedang  di dapur



Adik rajin  gigi



Ayah pergi ke kantor menaiki



Ibu  piring di dapur



Kakak sedang  di kamar



Kakak  mencuci baju baru



Payung kakak berwarna



# MELENGKAPI KALIMAT

Isilah titik-titik pada kalimat di bawah ini dengan nomor gambar yang sesuai agar kalimat menjadi lengkap dan benar!

1

Ayah pergi ke \_\_\_\_ untuk bekerja.



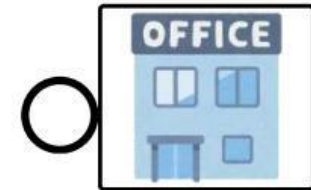
2

Saya suka makan \_\_\_\_ karena rasanya manis.



3

Paman sedang membaca \_\_\_\_ di ruang tamu.



4

Kakak dan Adik sedang bermain \_\_\_\_ di taman.



5

Setiap pagi, aku selalu \_\_\_\_ gigi sebelum berangkat sekolah.



6

Ibu pergi ke \_\_\_\_ membeli bahan makanan.

