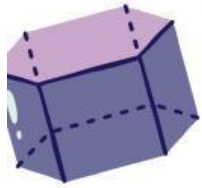




MATEMÁTICAS




Estudiante: _____

Fecha: _____

Curso: _____




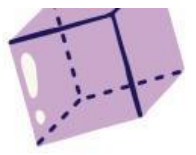
1. Relaciona las fracciones según correspondan



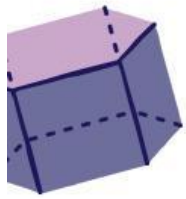
2. ¿Qué fracción representa una pizza dividida en 4 partes iguales y se comen 2?

- ☐ 1/4
- ☐ 2/4
- ☐ 3/4
- ☐ 4/4





3. ¿Cómo se llama el número que está arriba en una fracción?



☐ DENOMINADOR

☐ DIVISOR

☐ NUMERADOR



4. Si compartes un chocolate en 6 partes iguales y comes 1, ¿qué fracción comiste?

☐ 6/1

☐ 1/6

☐ 2/6

5. Verdadero o falso

A. EL NUMERADOR INDICA EN CUÁNTAS PARTES SE DIVIDE EL TODO.

☐

B. LA FRACCIÓN $1/2$ ES MAYOR QUE $1/4$.

☐

C. LA FRACCIÓN $2/8$ ES EQUIVALENTE A $1/4$.

☐

D. UNA FRACCIÓN SIEMPRE REPRESENTA UNA PARTE DE ALGO ENTERO.

☐