


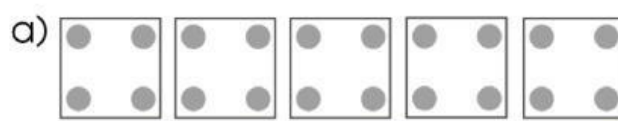
Họ tên:.....

Toán

1 Xem hình rồi nói và viết phép nhân (theo mẫu):


Mẫu: 

5 được lấy 3 lần
 $5 \times 3 = 15$



4 được lấy lần

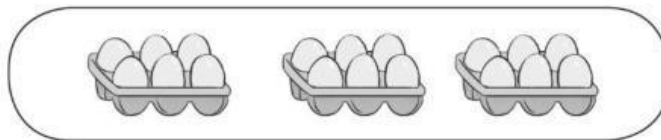
Điền dấu phép tính: $4 \bigcirc 5 = 20$




..... được lấy lần

$6 \bigcirc 2 = 12$

2 Nối phép nhân thích hợp với mỗi tranh vẽ:



5×2



6×3



4×3

3 Chuyển tổng các số hạng bằng nhau thành phép nhân (theo mẫu):

Mẫu: $7 + 7 + 7 = 21$
 $7 \times 3 = 21$

a) $2 + 2 + 2 = 6$

$\square \times \square = \square$

b) $10 + 10 + 10 + 10 = 40$

$\square \times \square = \square$

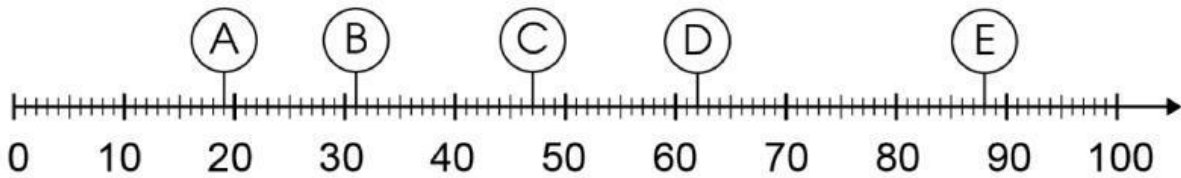
c) $9 + 9 = 18$

$\square \times \square = \square$

d) $5 + 5 + 5 + 5 + 5 + 5 = 30$

$\square \times \square = \square$

4 a) Quan sát tia số, viết số thích hợp vào chỗ chấm:



A: ?...; B: ?...; C: ?...; D: ?...; E: ?...

b) Số ?

Số liền trước	Số đã cho	Số liền sau
..?..	40	..?..
..?..	59	..?..
..?..	81	..?..