


LKPD

SISTEM OTOT PADA MANUSIA

Nama: _____

Kelas: _____





-CAPAIAN PEMBELAJARAN-

MEREFLEKSIKAN SISTEM ORGAN TUBUH MANUSIA YANG DIKAITKAN DENGAN CARA MENJAGA KESEHATAN TUBUHNYA; MENGANALISIS HUBUNGAN ANTAR KOMPONEN BIOTIK DAN ABIOTIK, SERTA PENGARUHNYA TERHADAP EKOSISTEM; MENJELASKAN FENOMENA GELOMBANG BUNYI DAN CAHAYA DALAM KEHIDUPAN SEHARI-HARI; MENGHASILKAN UPAYA PENGHEMATAN ENERGI, SERTA PEMANFAATAN SUMBER ENERGI ALTERNATIF DARI SUMBER DAYA YANG ADA DI SEKITARNYA SEBAGAI UPAYA MITIGASI PERUBAHAN IKLIM; MENJELASKAN SISTEM TATA SURYA, SERTA KAITANNYA DENGAN ROTASI DAN REVOLUSI BUMI; MENJELASKAN LETAK DAN KONDISI GEOGRAFIS NEGARA INDONESIA DENGAN MENGGUNAKAN PETA KONVENSIONAL/DIGITAL; MENINJAU SEJARAH PERJUANGAN PARA PAHLAWAN DI LINGKUNGAN SEKITAR TEMPAT TINGGALNYA; MENEMUKAN KERAGAMAN BUDAYA NASIONAL DALAM KONTEKS KEBHINEKAAN BERDASARKAN PEMAHAMAN TERHADAP NILAI-NILAI KEARIFAN LOKAL YANG BERLAKU DI WILAYAH TEMPAT TINGGAL; SERTA MENERAPKAN KEGIATAN EKONOMI MASYARAKAT DI LINGKUNGAN SEKITAR.

-TUJUAN PEMBELAJARAN-

- 1.C1 (MENINGAT): PESERTA DIDIK DAPAT MENYEBUTKAN PENGERTIAN OTOT DAN JENIS OTOT BERDASARKAN STRUKTURNYA, YAITU OTOT JANTUNG, OTOT LURIK, DAN OTOT POLOS DENGAN BENAR.**
 - 2.C2 (MEMAHAMI): PESERTA DIDIK DAPAT MENJELASKAN CIRI-CIRI DARI MASING-MASING JENIS OTOT BERDASARKAN STRUKTURNYA SECARA SEDERHANA DAN RUNTUT.**
 - 3.C3 (MENERAPKAN): PESERTA DIDIK DAPAT MENGKLASIFIKASI GAMBAR OTOT KE DALAM JENIS YANG SESUAI (JANTUNG, LURIK, ATAU POLOS) BERDASARKAN CIRI-CIRI YANG TELAH DIPELAJARI.**
- 

-PETUNJUK Pengerjaan-

- PESERTA DIDIK BERKUMPUL DENGAN KELOMPOKNYA MASING-MASING.
- PESERTA DIDIK MENGAMATI GAMBAR YANG TELAH DISAJIKAN DI LKPD SECARA SEKSAMA.
- PESERTA DIDIK DIMINTA UNTUK MENGIDENTIFIKASIKAN DAN MENCOCOKKAN SETIAP PERINTAH DALAM SOAL.
- PESERTA DIDIK DAPAT MELAKUKAN PEMERIKSAAN ULANG TERHADAP LKPD YANG TELAH MEREKA DESKRIPSIKAN DENGAN KALIMAT YANG JELAS, MUDAH DIPAHAMI, DAN SESUAI DENGAN GAMBAR.
- PESERTA DIDIK MAJU DI DEPAN KELAS DENGAN KELOMPOKNYA UNTUK MEMPRESENTASIKAN HASIL Pengerjaan LKPD.
- PESERTA DIDIK MENERIMA EVALUASI GUNA MENGETAHUI PEMAHAMAN TERHADAP PEMBELAJARAN.



Nama: _____

Kelas: _____

**IDENTIFIKASI OTOT-OTOT TERSEBUT DENGAN
MEMBERIKAN JAWABAN YANG TEPAT
DISAMPING GAMBAR BERIKUT!**



NAMA OTOT

CIRI-CIRI

FUNGSI

LETAK

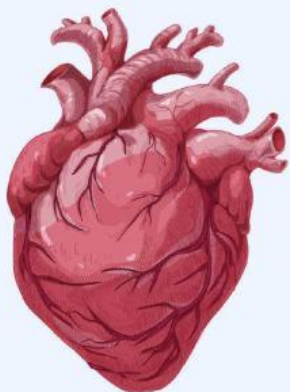


NAMA OTOT

CIRI-CIRI

FUNGSI

LETAK



NAMA OTOT

CIRI-CIRI

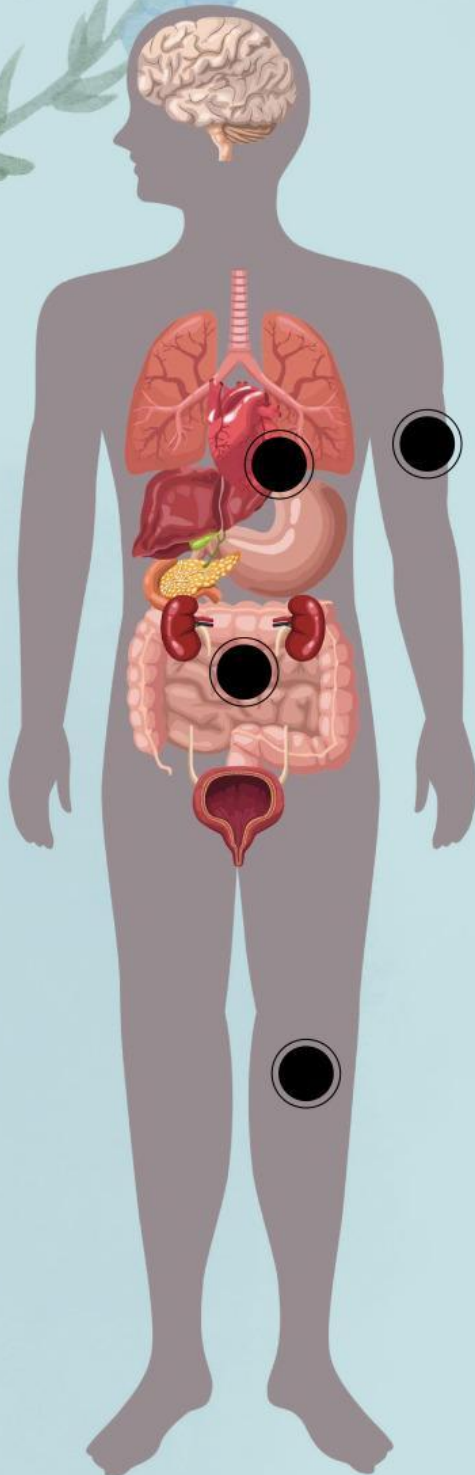
FUNGSI

LETAK

Nama: _____

Kelas: _____

PASANGKAN GAMBAR TERSEBUT KEPADA JENIS OTOT YANG ADA PADA KOLOM YANG MERAH DI BAWAH INI!



OTOT LURIK



OTOT JANTUNG



OTOT POLOS