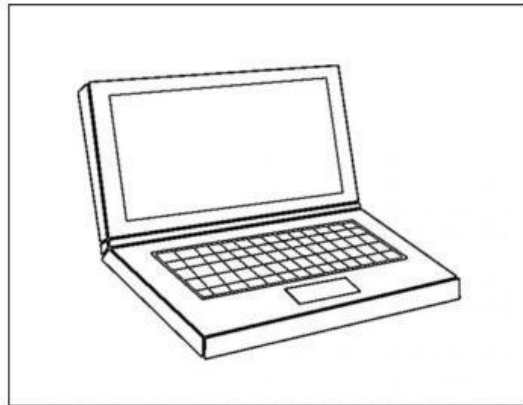

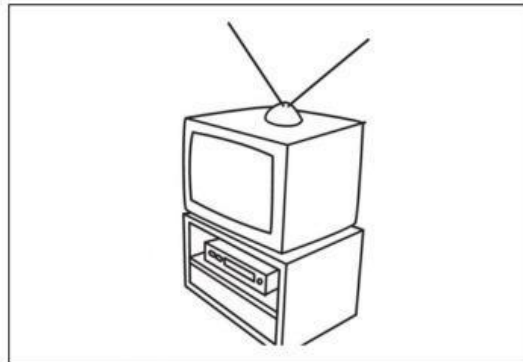



## Evaluación correspondiente al primer trimestre

Período lectivo:	2025 - 2026	Subnivel:	Preparatoria
Curso:	Preparatoria	Paralelo:	A


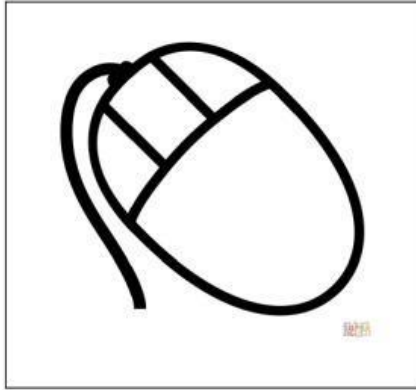

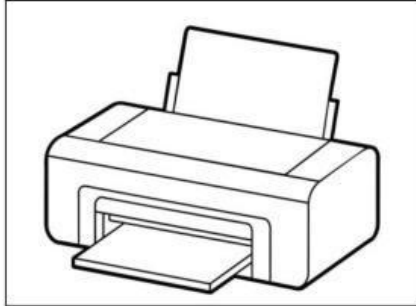
### 1. Pinta las imágenes que hagan referencia a un computador. (2 puntos)



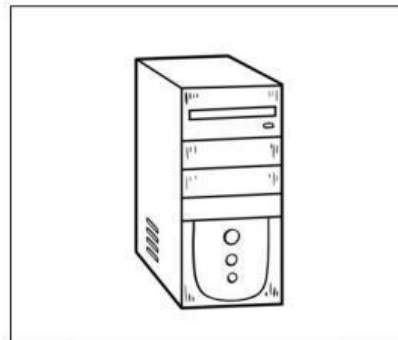
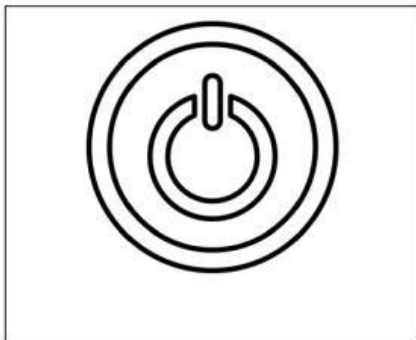
### 2. ¿Cuántos elementos básicos tiene un computador? Pinta el número que corresponda. (2 puntos)

1	2	3	4
---	---	---	---

3. Pinta el recuadro donde se encuentre el mouse. (2 puntos)



4. Pinta el recuadro que tenga el ícono del botón de encendido del computador. (2 puntos)





**UNIDAD EDUCATIVA MUNICIPAL  
HÉROES DEL CENEP A**

*Código AMIE: 11H00104  
Dirección: Tnte. Geovany Calles y Cbo. Ernesto Vaca*



**5. Dibuja dos usos que les puedes dar al computador. (2 puntos)**