


# LKPD

## Keliling bangun datar

Untuk kelas

5



Nama :

No :

Kelas :

## Tujuan Pembelajaran


Setelah mempelajari bab ini, diharapkan kalian mampu mengetahui kapan kalian harus menggunakan keliling bangun datar. Selanjutnya, kalian diharapkan mampu menemukan cara menghitung keliling berbagai bangun datar.

## *Petunjuk pengerjaan*

- Silahkan isi identitas pada kolom yang telah tersedia!
- Jawablah persoalan pada Lembar soal LKPD dengan teliti
- Tanyakan pada guru jika terdapat hal yang membingungkan
- Periksa hasil sebelum dikumpulkan
- Kumpulkan LKPD kepada guru

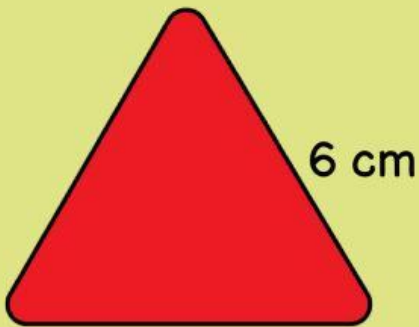
# Keliling Bangun Datar

Hitunglah Keliling bangun datar dibawah ini dengan benar!



6 cm

Keliling : \_\_\_\_\_  
\_\_\_\_\_  
\_\_\_\_\_



10 cm

6 cm

Keliling : \_\_\_\_\_  
\_\_\_\_\_  
\_\_\_\_\_



8 cm

10 cm

Keliling : \_\_\_\_\_  
\_\_\_\_\_  
\_\_\_\_\_



8 cm

Keliling : \_\_\_\_\_  
\_\_\_\_\_  
\_\_\_\_\_



# Keliling Bangun Datar

Hitunglah Keliling bangun datar dibawah ini dengan benar!



Sebuah kebun lobak dan wortel berbentuk persegi memiliki sisi sepanjang 9 meter. Hitunglah keliling kebun tersebut!

