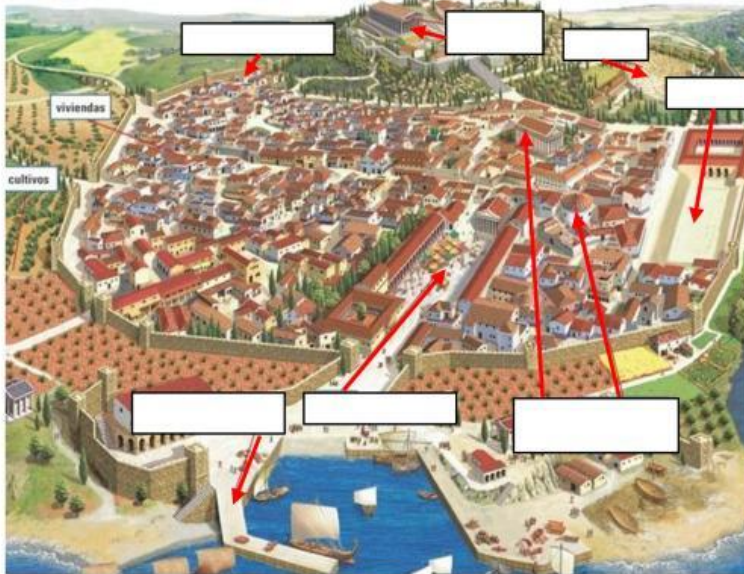


EL ARTE GRIEGO

1) Marca los factores más destacados de la cultura clásica.

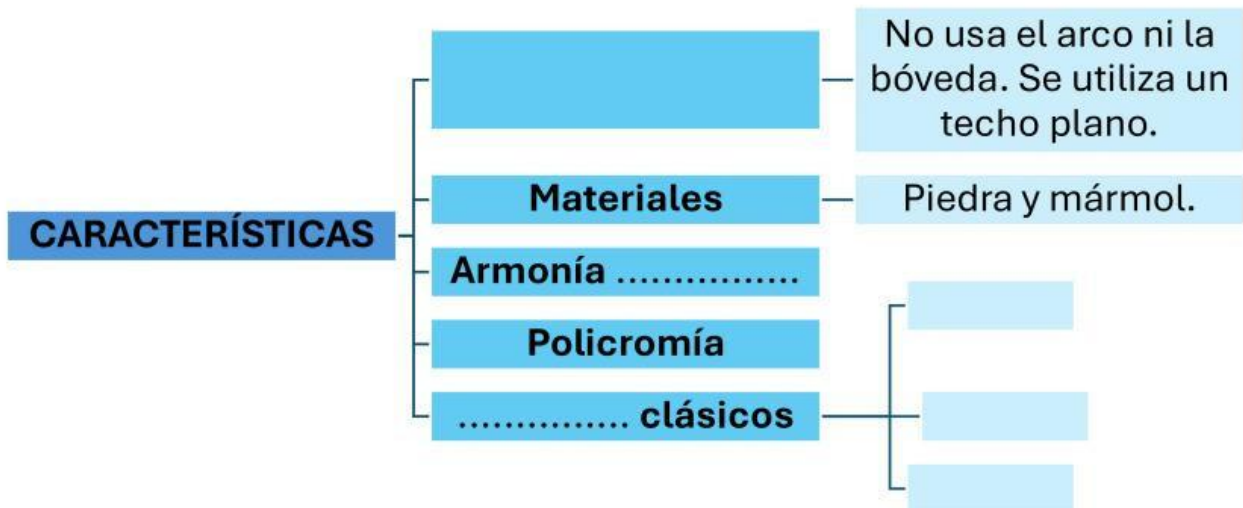
CARÁCTER HUMANISTA	FUNCIÓN PROPAGANDÍSTICA	ARTE PRÁCTICO
MONUMENTALISMO	DESARROLLO DEL PENSAMIENTO RACIONAL	LÍNEAS CURVAS

2) Señala las partes de la polis griega.



- 1) ACRÓPOLIS
- 2) MURALLA
- 3) TEMPLO
- 4) PUERTO
- 5) ÁGORA
- 6) TEATRO
- 7) ESTADIO

3) Completa el siguiente esquema sobre la arquitectura griega.



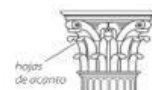
4) Relaciona cada orden clásico con su capitel.



CORINTIO

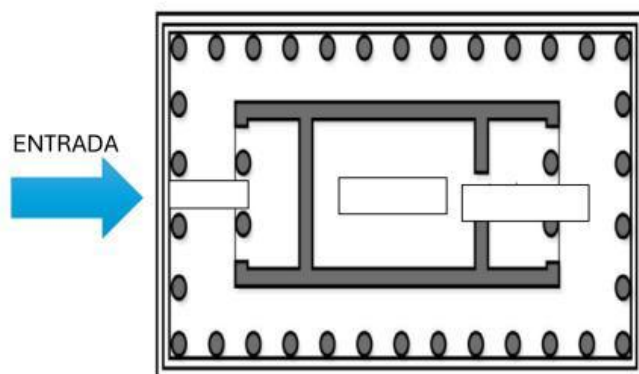


JÓNICO

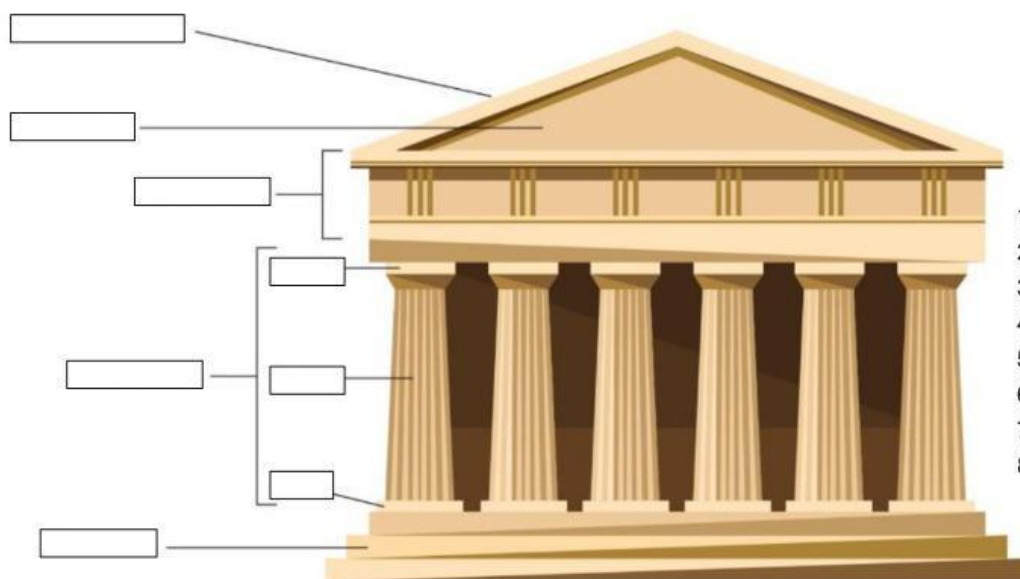


DÓRICO

5) Señala las partes del templo griego.



- 1) OPISTODOMOS
- 2) PRONAOS
- 3) NAOS



- 1) TEJADO A DOS AGUAS
- 2) BASAMENTO
- 3) BASA
- 4) FUSTE
- 5) ENTABLAMENTO
- 6) CAPITEL
- 7) FRONTÓN
- 8) COLUMNAS

6) Elige la opción correcta para las siguientes definiciones.

El es un edificio construido en honor a una divinidad. La del templo es y se divide en 3 partes: la (un pórtico con columnas), la (con la imagen del dios/a) y el (donde se guardaba el tesoro). Su tenía los siguientes elementos:

- Una parte inferior, formada por 3 escalones, denominada
- Formadas por la basa, el fuste y el capitel.
- La parte horizontal bajo el frontón, que apoya en las columnas, se denominaba
- Coronando el templo, un triangular, que deja el tejado a dos aguas.