

LKPD

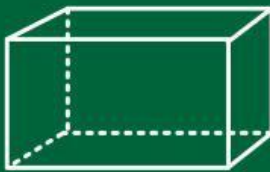
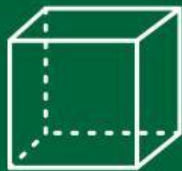
Matematika

Tema:

Bangun Ruang



Bangun Ruang



Nama: _____

Kelas: _____

Tujuan LKPD:

setelah mengerjakan LKPD peserta didik dapat menyebutkan, mengidentifikasi ciri-ciri, dan mengklasifikasikan benda-benda di lingkungan sekitar berdasarkan bentuk bangun ruangnya.

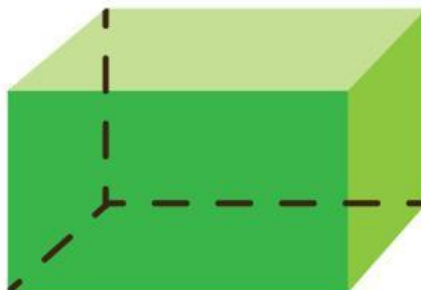

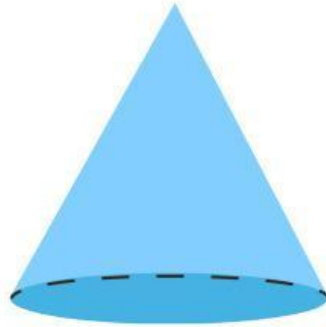
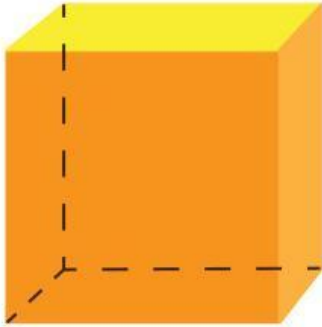
Petunjuk pengerjaan!

sebutkan nama Bangun Ruang yang ada digambar tersebut, kemudian cocokkan nama bangun ruang yang ada dengan barang-barang yang ada di rumahmu, setelah itu identifikasi ciri-ciri dari bangun ruang yang terdapat dalam gambar ini!



Bangun Ruang

Tulislah nama-nama bangun ruang di bawah ini.



Bentuk Benda

Hubungkan benda dengan bentuknya.



Kerucut




Kubus



Balok



Bola

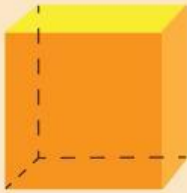



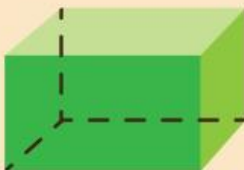


Tabung



Bagian-bagian Bangun Ruang

Tuliskan banyak sisi, sudut, dan rusuk bangun ruang pada tabel di bawah ini.

No	Bangun Ruang	Bagian- bagian
1.		<ul style="list-style-type: none">• Sisi:• Sudut:• Rusuk:
2.		<ul style="list-style-type: none">• Sisi:• Sudut:• Rusuk:
3.		<ul style="list-style-type: none">• Sisi:• Sudut:• Rusuk:
4.		<ul style="list-style-type: none">• Sisi:• Sudut:• Rusuk:
5.		<ul style="list-style-type: none">• Sisi:• Sudut:• Rusuk:

