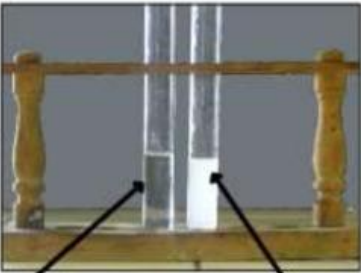


Exercice 1 : Choisir dans chaque cas la bonne réponse.



L'eau de chaux est


c'est-à-dire il y a

de

L'eau de chaux est

c'est-à-dire il y a


de



Dans cette figure :

La bougie est

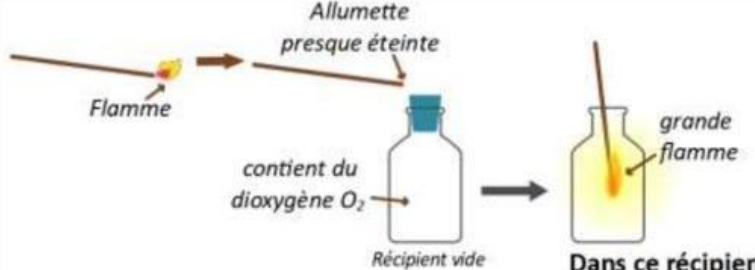
il y a de



Dans cette figure :

La bougie est

il y a de




Dans ce récipient
il y a
de
car ce gaz
une allumette presque éteinte

Exercice 2 : Placer chaque terme du cadre rouge dans sa place convenable.

Dioxyde de carbone CO₂
Respiration
Photosynthèse
Dioxygène O₂
Combustion

Phénomènes ou processus



Gaz

