

1

4

2

3

Ayo Menghitung Sampai Dengan 10

Matematika Kelas 1 SD

5

6



 LIVEWORKSHEETS

2

1


3

Menghitung
Benda


6

4

5



6 Balon



10 Pensil



4 Tas

2

Membandingkan Jumlah

1



Lebih Banyak dari



4 Lebih Banyak dari 2



Lebih Sedikit dari



3

3 Lebih Sedikit dari 6

5

Lembar Kerja Peserta Didik

LKPD

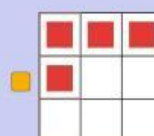

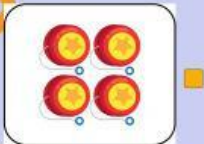
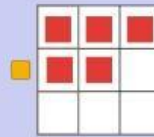
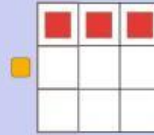
Ayo Menghitung Sampai Dengan 10!



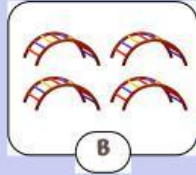
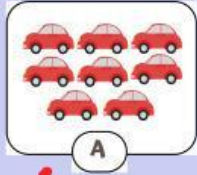


Ayo hitung jumlah benda!

Tariklah garis, pasangkan benda yang sama banyak.

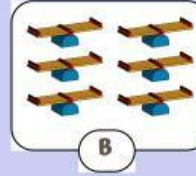
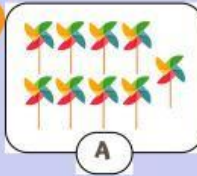


Ayo bandingkan jumlah benda!



Benda mana yang jumlahnya lebih banyak?

Benda mana yang jumlahnya lebih sedikit?



Benda mana yang jumlahnya lebih banyak?

Benda mana yang jumlahnya lebih sedikit?

1 Ayo lengkapi urutan bilangan berikut!

Lengkapi bilangan mulai dari 1 sampai 10



3

Lengkapi bilangan mulai dari 10 sampai 1

