



ESCUELA DE EDUCACION GENERAL BÁSICA “JUAN RAIMUNDO FIGUEROA”

Lizardo Ruiz Oe4- 522 y domingo Segura (Cotocollao)

Teléfonos: 2530-192 / 2590-627

Email: 17h00182@gmail.com

EVALUACIÓN DEL PRIMER TRIMESTRE

CIENCIAS NATURALES

2025– 2026

Nombre del Estudiante:..... Fecha: Grado: 5° E.G.B. Paralelo:..... Básica Media	CALIFICACION 10
INSTRUCCIONES: <ul style="list-style-type: none">• Lea detenidamente la orden de cada pregunta.• Escriba con letra legible• No se admiten tachones ni manchones ya que su respuesta será anulada.• La honestidad académica es un principio que empieza en las aulas.• Realice su prueba con este principio de vida. ¡HONESTIDAD ABSOLUTA!	

1. Ponga un  en la opción correcta.

Los animales invertebrados se caracterizan por:

- a) Tener columna vertebral
- b) No tener columna vertebral
- c) Vivir solo en el agua
- d) Ser todos voladores

¿Cuál de los siguientes animales es un animal INVERTEBRADO de la Costa ecuatoriana?

- a) Cangrejo
- b) Mono
- c) Iguana
- d) Delfín

En el Oriente ecuatoriano se pueden encontrar muchos insectos como:

- a) Gallinas y patos
- b) Peces y delfines
- c) Tigres y loros
- d) Mariposas y escarabajos

2.- Pinte la casilla de los animales que pertenecen a la clasificación de los INVERTEBRADOS.



Gusanos



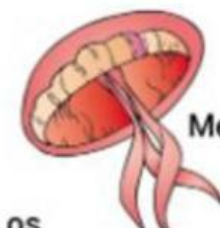
Aves



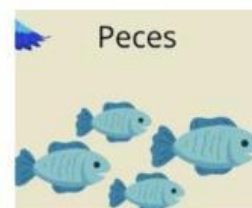
Equinodermos



Artrópodos



Medusas



Peces

3.- Relacione el invertebrado con la clase a la que pertenece:

INVERTEBRADO
Estrella de mar
Mariposa
Caracol
Lombriz de tierra

CLASE
Anélido
Equinodermos
Artrópodo
Molusco

4. Lea los enunciados y complete con las palabras de las nubes.









a) Tienen vida sésil, son marinos, carecen de órganos _____

b) Poseen patas articuladas y órganos internos. _____

d) Algunos desarrollan una concha para protegerse. _____

5. Una con una línea.

	Araña.	Molusco
	Mariposa	Crustáceo
	Pulpo	Insecto
	Caracol	Molusco
	Lombriz	Gusano
	Cangrejo	Arácnido

6.- Ubique “V” si la expresión es correcta o “F” si la expresión es falsa.

- Los caracoles terrestres gigantes de las Galápagos son moluscos.
- Todos los invertebrados se reproducen solo por huevos.
- Las esponjas pueden reproducirse por gemación (brote o yema que crece junto al individuo)
- Las estrellas de mar pueden reproducirse por fragmentación (crecen a partir de un pedazo de uno de sus brazos)

7.- Marque 3 opciones correctas.

¿Cómo influye la actividad física en el desarrollo de un adolescente durante la pubertad?

- Evita enfermedades como la obesidad y la diabetes.
- Mejora la respiración.
- No ayuda a mejorar la ansiedad y el estrés.
- Aumenta la producción de endorfinas, lo que mejora el estado de ánimo.
- No aleja a los adolescentes de los vicios como drogas o alcohol.