

Họ và tên: \_\_\_\_\_









Toán  
Ôn tập tuần 12

## Cuối tuần vui vẻ


### Hoạt động 1: Lựa chọn đồ chơi


Viết chữ số thích hợp vào chỗ trống (theo mẫu).


Số	54	35	520	15 726	59 318	501 204
Giá trị của chữ số 5						


### Hoạt động 2: Chăm sóc thú cưng


Điền dấu <, >, = thích hợp vào chỗ chấm.

 487 ..... 4 687

 1 798 ..... 1 787

 67 529 503 ..... 67 539 100

 28 680 ..... 28 000 + 680

 101 342 670 ..... 105 423 179

### Hoạt động 3: Hái nấm


Sắp xếp số theo thứ tự:

a. Thứ tự từ bé đến lớn: 137, 58, 639, 501, 99

\_\_\_\_\_

b. Thứ tự từ lớn đến bé: 264 349, 208, 75, 790, 3 102, 45 910

\_\_\_\_\_



Viết số thành tổng theo hàng.

a. 51 326 = \_\_\_\_\_

b. 703 095 = \_\_\_\_\_

a. 500 012 320 = \_\_\_\_\_



### Hoạt động 4: Lấy mật

Nói?

Số liền trước số 200 là ...

Số tiếp theo trong dãy số:  
886, 887, 888, 889, ...

Số tiếp theo trong dãy số:  
35, 37, 39, 41, ...

Số liền sau số 98 999 999 là ...

