



LKPD



MATEMATIKA

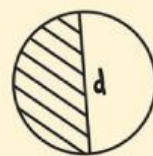
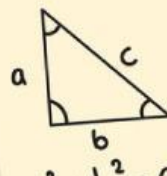


KELAS IV

BANGUN DATAR

NAMA:

KELAS:



IDENTITAS KELOMPOK

NAMA ANGGOTA KELOMPOK



- 1.
- 2.
- 3.
- 4.
- 5.



TUJUAN PEMBELAJARAN

Melalui kegiatan dalam LKPD ini, peserta didik diharapkan dapat:

1. Menentukan ciri-ciri bangun persegi dengan benar (C1).
2. Menjelaskan ciri-ciri persegi panjang secara runtut dan tepat (C2).
3. Menganalisis persamaan dan perbedaan ciri-ciri jajargenjang dengan bangun datar lainnya (C4).

PETUNJUK PENGGUNAAN

1. Bacalah petunjuk pengerjaan LKPD dengan cermat sebelum memulai.
2. Gunakan alat tulis, penggaris, dan gunting sesuai kebutuhan kegiatan.
3. Kerjakan LKPD ini secara berkelompok sesuai arahan guru.
4. Diskusikan jawaban bersama teman kelompok secara aktif dan saling menghargai pendapat.
5. Tanyakan kepada guru jika ada bagian yang belum kamu pahami.
6. Isilah semua kolom atau tabel yang tersedia dengan rapi dan jelas.
7. Periksa kembali hasil kerja sebelum diserahkan kepada guru.

ALAT DAN BAHAN




1. LKPD “Mengetahui Ciri-Ciri Bangun Datar”
2. Pensil, penghapus, dan penggaris
3. Gunting dan lem
4. Kartu gambar bangun datar (persegi, persegi panjang, jajargenjang)
5. Media digital (PPT atau video interaktif) yang dipandu guru



LKPD

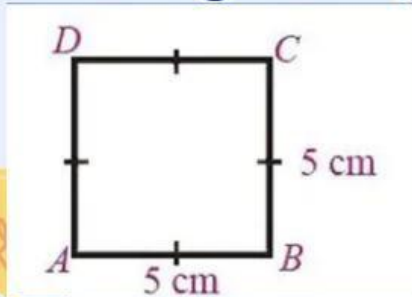
1. Amati gambar-gambar berikut yang menunjukkan bentuk ubin lantai, jendela, dan bendera!
2. Diskusikan bentuk apa saja yang kamu temukan!
3. Tuliskan hasil pengamatanmu pada tabel di bawah ini.



NO	GAMBAR	NAMA BANGUN DATAR	ALASAN (<u>CIRI</u> YANG TERLIHAT)
1.			
2.			
3.			

MENENTUKAN CIRI-CIRI PERSEGI

1. Perhatikan gambar persegi di bawah ini.



2. Ukurlah panjang sisi-sisinya!

3. Tuliskan hasilnya dan simpulkan ciri-ciri persegi.

NO	SISI	PANJANG (CM)	KESIMPULAN CIRI PERSEGI
1.	AB		
2.	BC		
3.	CD		
4.	DA		

Kesimpulan :

Persegi memiliki ciri-ciri :

- 1.
- 2.
- 3.