

LKPD

Ilmu Pengetahuan Sosial

Tema: Kenampakan Alam dan Buatan

Nama: _____ Kelas: _____



Kenampakan Alam

Hubungkan gambar dengan namanya yang sesuai.



• Laut

• Hutan


• Lembah

• Gunung

• Sungai

Kenampakan Buatan

Perhatikan gambar, tuliskan tujuan dari pembangunan kenampakan buatan di bawah ini.



- Jembatan



- Perumahan



- Bendungan



- Jalan Raya



- Sawah

NAMA : _____

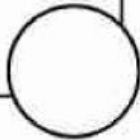
KELAS : _____

BENAR ATAU SALAH

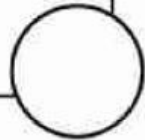
Apakah Pernyataan Ini Benar?

Beri tanda (✓) jika benar, (X) jika salah!

Sungai adalah
kenampakan buatan.



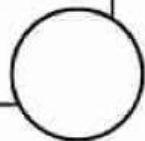
Hutan termasuk
kenampakan alam.



Jembatan merupakan
kenampakan buatan.



Laut dan danau termasuk
kenampakan alam.



Menjaga Lingkungan Sekitar

Perhatikan gambar, tuliskan cara menjaga lingkungan sekitar di bawah ini.





