



MATEMÁTICAS



Estudiante: _____

Fecha: _____

Curso: _____



1. Relaciona la operación con su significado y una con líneas según corresponda



MULTIPLICACIÓN

DIVISIÓN

RESTA

SUMA

2. ¿Cuál operación representa juntar cantidades?




SUMA

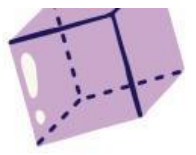


RESTA

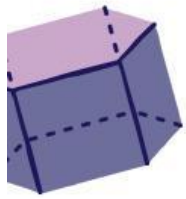


MULTIPLICACIÓN





3. Si tienes 14 dulces y te regalan 9 más, ¿cuántos tienes?



- ☐ 21
☐ 23
☐ 25



5

4. Completa los siguientes ejercicios

A. $26 + 18 =$ _____

B. $90 - 25 =$ _____

C. $7 \times 6 =$ _____



5. Verdadero o falso

A. $45 + 20 = 75$

☐

B. LA RESTA SIRVE PARA QUITAR O COMPARAR

☐

C. $9 \times 3 = 36$

☐

D. EN LA DIVISIÓN SE REPITEN GRUPOS IGUALES

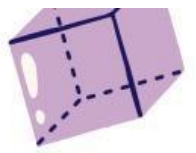
☐

6. Resuelve los siguientes problemas matematicos.

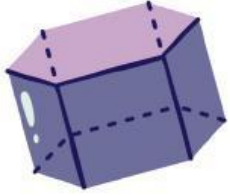
Mario tiene 28 canicas y compra 16 más.
¿Cuántas tiene ahora?

6





En una caja hay 64 galletas y se reparten entre 8 niños.
¿Cuántas galletas recibe cada niño?





Laura tenía 95 stickers y regaló 40.
¿Cuántos conserva?



Hay 5 cajas con 12 marcadores cada una.
¿Cuántos marcadores hay en total?



7. Completa la siguiente operación matemática.

- $32 + 29 =$ _____
- $84 - 33 =$ _____
- $6 \times 8 =$ _____
- $45 \div 5 =$ _____

