

Padankan gambar dengan ciri-ciri benda hidup.



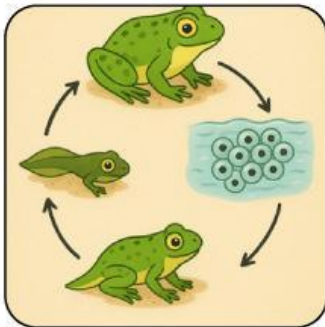
Benda hidup membiak

Benda hidup membesar

Benda hidup bernafas

Benda hidup perlukan  
makanan dan air

Benda hidup bergerak



Susunkan haiwan berikut dalam urutan saiz kecil ke besar.



1

2

3

4

5

6