



# LKPD

## MATEMATIKA

### MATERI SUDUT



Nama :

Kelas :





Hai! Ayo tonton video  
lagu "Sudut" di bawah  
ini!





AYO JAWAB SOAL  
DIBAWAH DENGAN  
TEPAT!



🔍 Tulis jawaban kamu di kolom titik-titik ✕

Daerah yang dibentuk oleh dua buah garis yang bertemu di satu titik disebut dengan

...

Alat yang digunakan untuk mengukur besar sudut dalam satuan derajat adalah

...

Sudut yang besar sudutnya kurang dari  $90^\circ$  adalah

...



Besar sudut siku-siku adalah...

Sudut yang lebih dari  $90^\circ$  adalah....

Di antara semua jenis sudut berikut, manakah yang memiliki ukuran terkecil?



🔍 Seret kata yang sesuai ke tempatnya! ✕

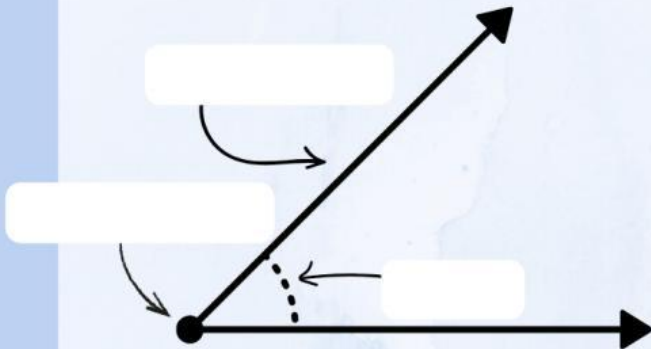
MARI  
MENCOCOKKAN

Perhatikan gambar sudut dibawah ini!  
Tempatkan sesuai tempatnya dengan benar

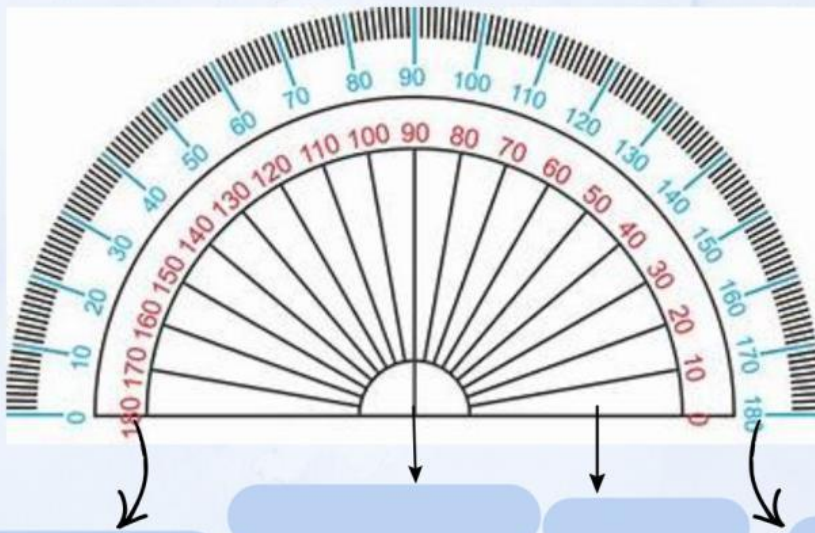
SUDUT

TITIK SUDUT

KAKI SUDUT



Perhatikan gambar busur derajat dibawah ini, kemudian Seret nama bagian busur derajat ke tempat yang benar!



Skala Bagian Luar

Garis Dasar

Titik Pusat Busur

Skala Bagian Dalam



Tekan tombol suara untuk mendengarkan instruksi soal!




● Sudut siku-siku

● Sudut Lancip

● Sudut tumpul



Pilih jawaban yang tepat (boleh lebih dari satu)!



# Thank You

