

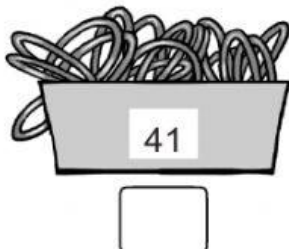
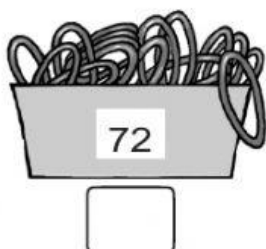


Actividad Interactiva


Nombre:

Fecha:

1. Escribe la decena más cercana que se aproxime cada número.



2. Selecciona la respuesta correcta



• ¿Qué juguete cuesta, aproximadamente, S/30?

• ¿Qué juguete cuesta, aproximadamente, S/10?

• ¿Qué juguete cuesta, aproximadamente, S/20?

3. Escribe la decena más cercana.



...



...

