

Lembar Kerja Peserta Didik

1

2

LKPD Matematika

Analisis Data dan Peluang

π

+

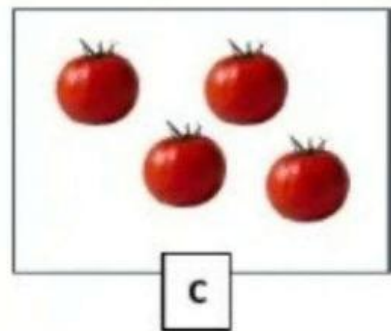
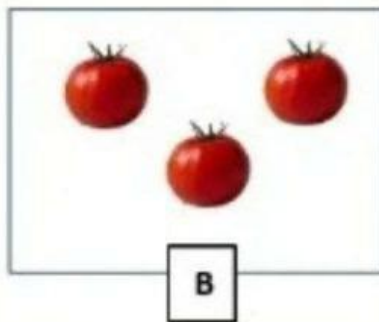
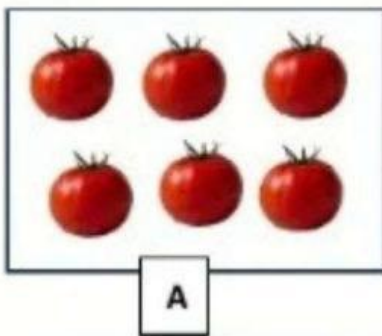


Nama:

Kelas

ANALISIS DATA

Perhatikanlah gambar di bawah ini!



Jawablah pertanyaan di bawah ini dengan tepat

Buah yang paling banyak terdapat pada kotak?

Urutkan kotak dari buah yang paling sedikit ke yang paling banyak

Urutkan kotak buah dari yang paling banyak ke yang paling sedikit

Nama:

Kelas:

PELUANG

Bacalah pertanyaan di bawah ini, lalu jawablah pertanyaan dengan tepat!



Andi memiliki 12 kelereng yang terdiri dari 2 kelereng biru, 3 kelereng hijau, 5 kelereng putih, dan 2 kelereng merah. Jika Andi akan mengambil kelereng tersebut secara acak di dalam kotak, kelereng mana yang memiliki kemungkinan yang pasti, yang akan diambil oleh Andi?

Terdapat 1 koin yang akan di lepar dengan sisi angka dan gambar. Apakah angka lebih mungkin dari gambar?

Terdapat 3 stiker bintang dan 3 stiker hati, di sebuah warung. Stiker apa yang mungkin terambil?