

1. Selecciona la opción correcta para conseguir que las estructuras de las imágenes sean estables

FOTO 1



FOTO 2



FOTO 3



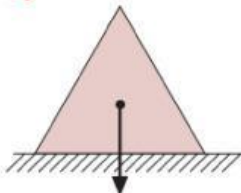
FOTO 4



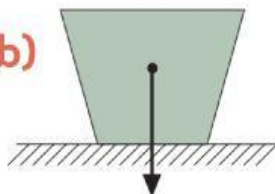
- a) Centra el peso del cuerpo en su parte más baja, Incluso añadiendo peso de manera artificial
- b) Empotrar la parte inferior en el suelo y emplear Una cimentación especial
- c) Aumentar el tamaño de la base
- d) Atirantar

2. De las siguientes ilustraciones

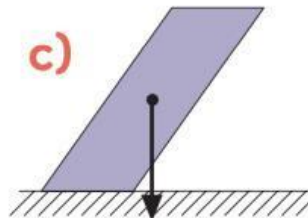
a)



b)



c)



e) ¿Cuál de estos cuerpos es más estable? _____

f) ¿Cuál te parece menos estable? _____