



SUMATIF AKHIR SEMESTER (SAS)

MATA PELAJARAN : SENI RUPA  
KELAS/ SEMESTER : VI (ENAM) / I (GANJIL)  
TAHUN PELAJARAN : 2025/2026  
HARI/ TANGGAL : SELASA, 02 DESEMBER 2025  
WAKTU PELAKSANAAN : 10.00 – 12.00

**PETUNJUK UMUM :**

- Tulislah terlebih dahulu nama anda ditempat yang telah disediakan
- Baca dengan teliti soal dibawah ini, sebelum anda menjawabnya
- Tanyakan kepada guru anda bila terdapat soal yang kurang / tidak jelas
- Teliti kembali pekerjaan anda sebelum diserahkan kepada guru anda

**I. Pilihlah salah satu jawaban yang tepat dengan memberi tanda silang (x) pada huruf a, b, c, atau d!**

1. Pada gambar atau lukisan, garis bisa digunakan sebagai pengisi gelap terang, yaitu dengan menggunakan

.....

- A. Aquarel                      B. blok                      C. dussel                      D. arsiran

2. Vina ingin membuat seni karya makrame. Dia memilih bahan berupa ....

- A. Rotan                      B. bamboo                      C. daun pandan                      D. sabut kelapa

3. Perhatikan gambar berikut ini !



Gambar di samping merupakan unsur seni rupa berupa ....

- A. garis  
B. titik  
C. bidang  
D. bentuk

4. Komposisi merupakan cara kita Menyusun dan mengatur objek gambar yang digunakan sebagai model gambar sehingga hasil gambar tampak menarik dan indah. Kompoisisi dapat dibuat melalui bentuk objek gambar, warna objek gambar, jenis objek gambar, dan latar belakang gambar. Pada komposisi asimentris, benda diletakkan dalam posisi ....

- A. seimbang                      B. sama                      C. teratur                      D. tidak sama

5. Perhatikan pernyataan berikut ini !

- 1) tekstur
- 2) komposisi
- 3) garis
- 4) kesatuan
- 5) keseimbangan

Unsur seni rupa ditunjukkan oleh nomor ....

- A. 1 dan 2                      B. 1 dan 3                      C. 2 dan 4                      D. 2 dan 5

6. Perhatikan gambar berikut ini !




Pola yang ditunjukkan gambar di samping adalah ....

- A. simetris  
B. asimetris  
C. informal  
D. nyata


7. Mey mey mewarnai gambar buatannya dengan cat air. Mey mey mencampur warna merah dan warna oranye. Jenis warna yang dihasilkan Linda disebut warna ....

- A. Primer                      C. Tersier  
B. Sekunder                      D. Netral

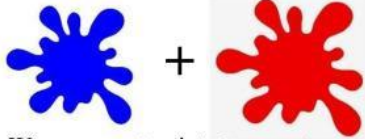
8.  Warna balon tersebut terbuat dari campuran warna....
- A. Merah dan ungu                      C. Biru dan hijau  
B. Biru dan kuning                      D. Biru dan ungu

9. Warna di samping diperoleh dengan mencampurkan warna .....

- A. merah dan kuning  
B. merah dan putih  
C. kuning dan biru  
D. kuning dan hijau




10. Perhatikan gambar berikut!.




Warna yang tercipta berupa....

- A. Merah                                      C. Oranye  
B. Hijau                                      D. Ungu

## II. Isilah titik-titik berikut ini dengan jawaban yang benar !

11. Fungsi warna adalah .....
12. Salah satu contoh benda anyaman .....
13. Makrame seni kerajinan mnggunakan .....
14.  Warna hijau tosca termasuk jenis warna .....

15.  Warna oranye buah jeruk merupakan campuran warna ... dan ....

## III. Jawablah pertanyaan di bawah ini dengan benar !

16. Apakah yang dimaksud dengan gambar ilustrasi ?
17. Warna primer adalah warna dasar yang tidak dapat diciptakan dari percampuran warna lain, dan menjadi dasar untuk menciptakan semua warna lainnya. Sebutkan 3 macam warna primer !
18. Apakah yang dimaksud dengan anyaman?
19. Pak Budi membuka toko kerajinan tangan di desanya. Ia menjual berbagai produk dari anyaman bambu. Sebutkan minimal 3 produk atau hasil karya yang bisa dijual Pak Budi dari anyaman bambu!
20. Apakah yang dimaksud dengan sketsa?