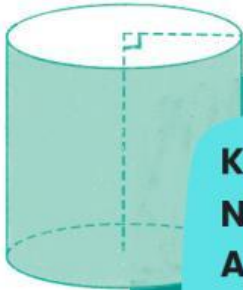


# LKPD 1

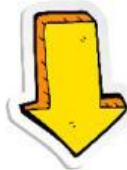
## UNSUR-UNSUR BOLA



**Kelas :**  
**Nama Kelompok :**  
**Anggota :**

### Tujuan Pembelajaran:

1. Siswa dapat mengidentifikasi unsur-unsur bangun ruang sisi lengkung bola berbantuan AR dengan tepat.

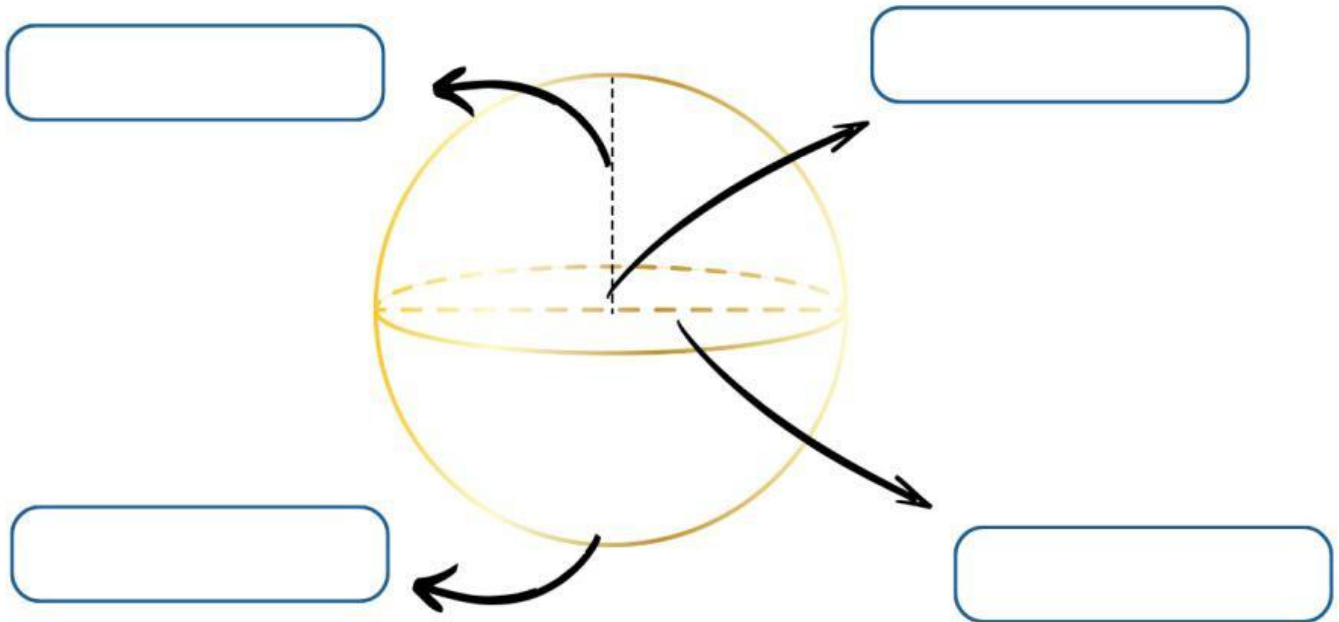


### PETUNJUK KEGIATAN

1. Lakukanlah eksplorasi dengan menggunakan AR dan amati apa saja unsur-unsur yang ada
2. Drag and dropkan jawaban ke bagian yang tepat sesuai dengan unsur-unsur bola.

### Aktivitas 1

Letakkanlah bagian-bagian bola berikut pada kotak yang sesuai dengan bagian-bagian bola!



Titik puncak

Titik pusat

Jari-jari

Sisi lengkung

### Aktivitas 2

Apasaja bangun datar penyusun bola?

---

---