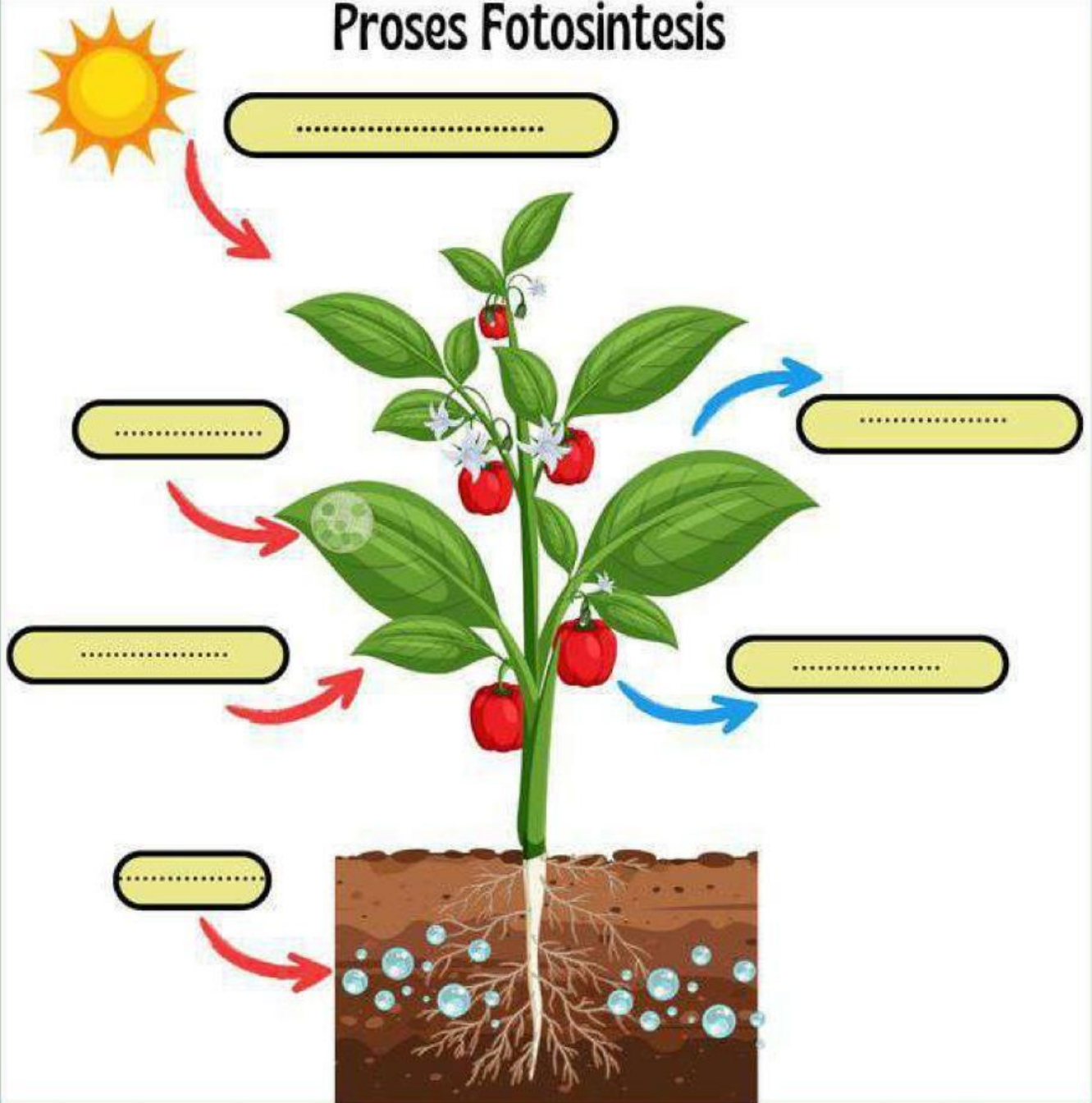


Nama :

Kelas :

Proses Fotosintesis

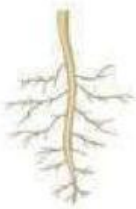


1. Apa pengertian Fotosintesis ?
2. Dimana tempat terjadinya fotosintesis ?
3. Apa itu klorofil ?
4. Sebutkan 4 bahan yang dibutuhkan untuk fotosintesis !
5. Sebutkan 2 hasil fotosintesis ?

BAGIAN TUBUH TUMBUHAN DAN FUNGSI NYA



Tumbuhan berperan sebagai sumber makanan bagi manusia dan hewan. Secara umum, tumbuhan memiliki beberapa bagian tubuh yang memiliki fungsinya masing-masing.



Akar

Menyerap air dan nutrisi dari dalam tanah dan menopang tumbuhan.



Batang

Menghantarkan air, nutrisi, dan makanan ke seluruh bagian tumbuhan.



Daun

Tempat terjadinya proses fotosintesis, tempat keluarnya uap air dan oksigen.



Bunga

Sebagai alat perkembangbiakan tumbuhan



Buah

Sebagai tempat menyimpan cadangan makanan dan melindungi biji di dalamnya.



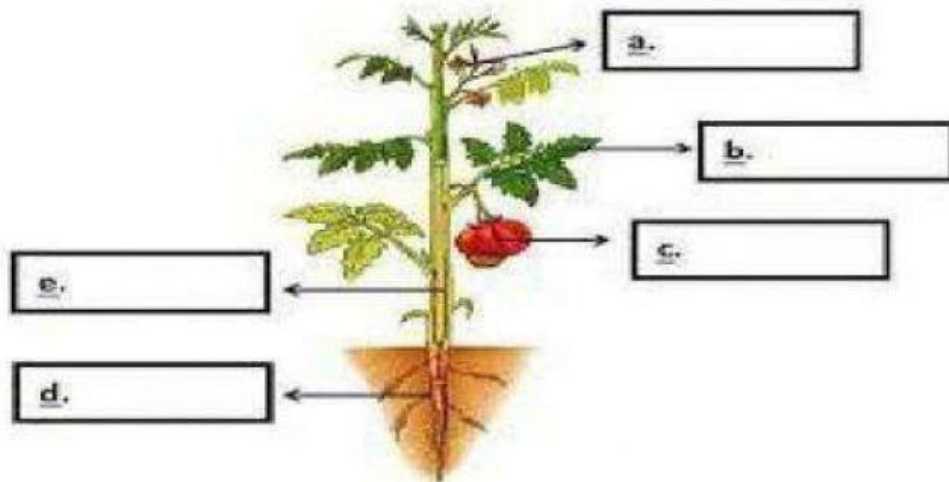
LEMBAR KERJA PESERTA DIDIK (LKPD)

Nama Kelompok :

Nama Anggota :

A. Jawablah pertanyaan berikut

1. Perhatikan gambar tanaman di bawah ini. Beri keterangan pada bagian yang ditunjuk!



AKAR

BATANG

DAUN

BUAH

BUNGA

2. Berilah garis lurus pada bagian tumbuhan sesuai fungsinya dengan benar!



Menyimpan cadangan makanan



Menyalurkan hasil fotosintesis



Alat berkembang biak



Menyerap air dan mineral dari tanah



Tempat terjadi fotosintesis