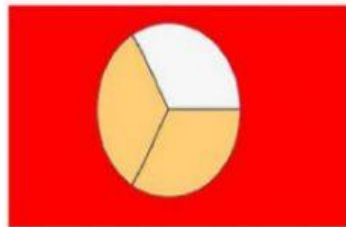



Une cada fracción en números y en palabras con su representación.

$$\frac{3}{6}$$



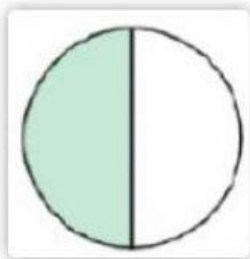
Un cuarto

$$\frac{1}{4}$$



Tres quinto

$$\frac{2}{3}$$



Dos tercios

$$\frac{3}{5}$$



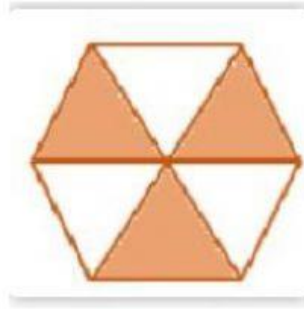
Tres sextos

$$\frac{1}{2}$$



Un medio

$$\frac{1}{3}$$



Un tercio