

3RO D PRIMARIA: NOMBRE COMPLETO: _____

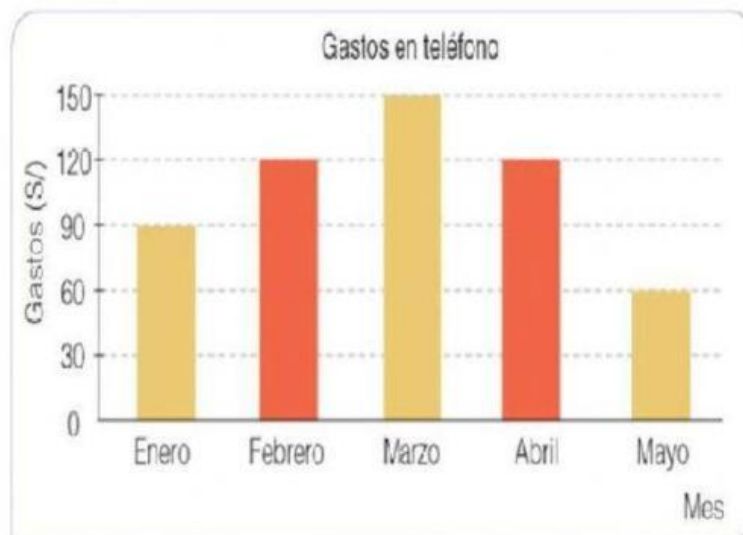
FECHA: Martes 26 de noviembre de 2025

GRÁFICO DE BARRAS

Rocío representa en un gráfico de barras los gastos que realiza por consumo de teléfono. Completa la tabla a partir de los datos del gráfico de barras y responde las preguntas (**escribir en minúscula**).

Gastos en teléfono

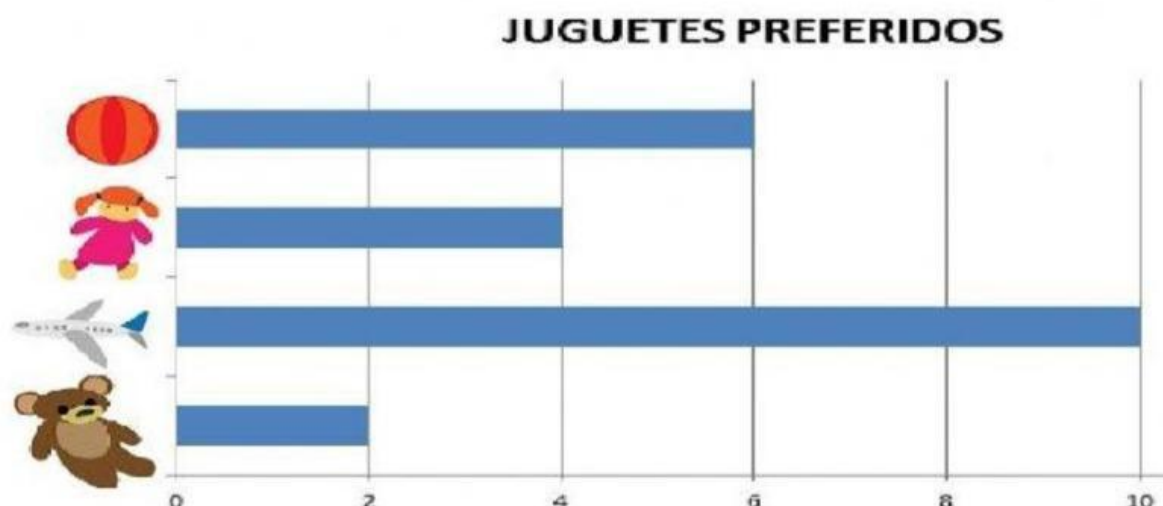
Mes	Gasto (S/)
Enero	
Febrero	
Marzo	
Abril	
Mayo	



- a) ¿Qué mes gastó más en llamadas?
- b) ¿Qué mes gastó menos en llamadas?
- c) ¿Cuánto más pagó en el mes de abril que en enero? soles
- d) ¿Cuánto pago en los dos primeros meses del año? soles
- e) ¿En qué meses pagó lo mismo?

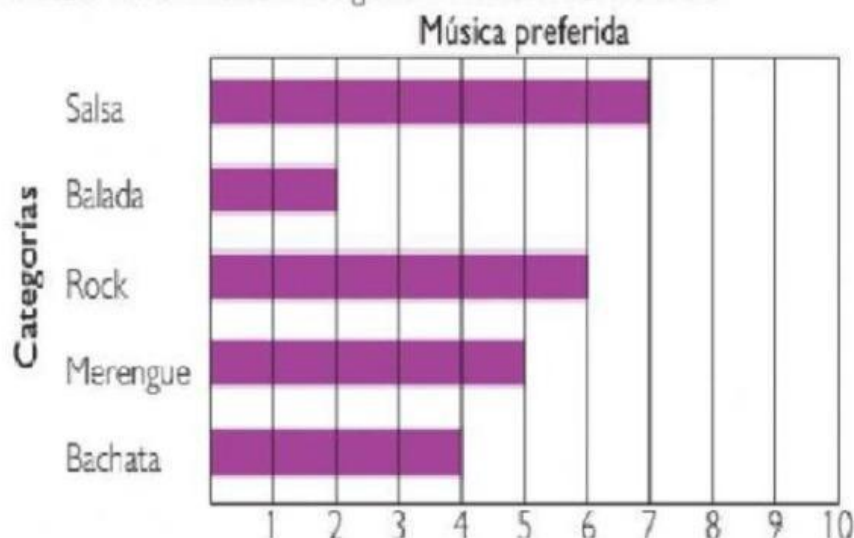
GRÁFICO DE BARRAS HORIZONTALES

1. Observa el siguiente diagrama de barras el cual nos indica los juguetes preferidos en una guardería. Marca con un "X" la alternativa correcta.



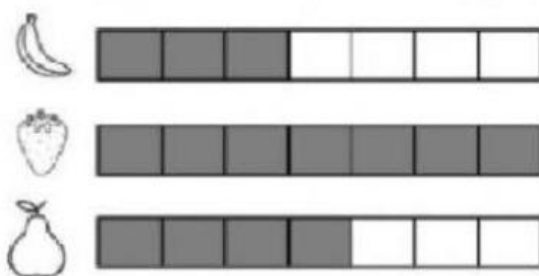
- El diagrama de barras anterior sus barras están de forma
 - a. secante
 - b. horizontal
 - c. perpendicular
 - d. vertical
- Cual fue el juguete preferido en la guardería?
 - a. oso
 - b. muñeca
 - c. avion
 - d. balon
- cuantos niños fueron encuestados en la guardería?
 - a. 22
 - b. 18
 - c. 20
 - d. 21
- si sumamos la cantidad de balones y la cantidad de muñecas nos dará la misma cantidad de :
 - a. osos
 - b. muñecas
 - c. aviones
 - d. balones

2 Observa la información del gráfico de barras horizontales.

■ Según los datos del gráfico, **completa** la siguiente información.

- Tipo de música menos preferida. _____
- Tipo de música de mayor preferencia. _____
- Número de personas entrevistadas. _____

3. Observa el diagrama de barras. completa la tabla y responde...



FRUTA PREFERIDA	CANTIDAD DE NIÑOS
<input type="text"/>	<input type="text"/>
<input type="text"/>	<input type="text"/>
<input type="text"/>	<input type="text"/>

1. ¿Cuál es la fruta preferida de los niños?
2. ¿Cuál es la fruta menos preferida de los niños?
3. ¿A cuántos niños le preguntaron?