

DUNIA REKA BENTUK

1. Padankan jawapan yang sesuai pada petak yang disediakan.

--	--	--

Pengetahuan tentang penyusunan bahan secara terancang untuk menghasilkan sesuatu produk	
Pengaplikasian ilmuu sains dan matematik dengan sumber semula jadi untuk dijadikan alat, tenaga atau sistem	
Gabungan pengetahuan tentang penyusunan bahan secara terancang dengan mengaplikasikan pengetahuan sains dan matematik	

2. Tentukan jenis reka bentuk ini






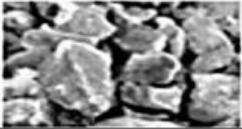


a)	Proses mereka bentuk produk yang boleh dilihat tetapi tidak boleh dipegang.
b)	Bidang yang melibatkan proses mereka bentuk sesuatu produk yang boleh dilihat atau dipegang.

3. Pilih jawapan yang betul.

Pertanian	
Bahasa	
Lukisan	
Pengangkutan	

Pengiklanan	
Grafik	
Sistem pembelajaran	
Persenjataan	

4. Pilih jawapan yang betul.

 <input style="width: 100%; height: 20px;" type="text"/>	 <input style="width: 100%; height: 20px;" type="text"/>	 <input style="width: 100%; height: 20px;" type="text"/>	 <input style="width: 100%; height: 20px;" type="text"/>
 <input style="width: 100%; height: 20px;" type="text"/>	 <input style="width: 100%; height: 20px;" type="text"/>	 <input style="width: 100%; height: 20px;" type="text"/>	 <input style="width: 100%; height: 20px;" type="text"/>

7. Nyatakan warna panas dan warna sejuk.

Warna panas	Warna sejuk

8. Kenal pasti jenis rupa berikut:



9. Tandakan (✓) bagi elemen reka bentuk dan (X) bagi prinsip reka bentuk.

Rupa	
Keringkasan	
Bentuk	

Kontras	
Warna	
Harmonis	

Keseimbangan	
Pengulangan	
Tekstur	

10. Nyatakan prinsip reka bentuk yang betul bagi rajah berikut:

