







เติมคำตอบในช่องว่างโดยพิมพ์ตัวเลข และเครื่องหมายลงในช่องว่างให้ถูกต้อง
โดยสัญลักษณ์ + แทนเครื่องหมายบวก - แทนเครื่องหมายลบ * แทนเครื่องหมายคูณ / แทนเครื่องหมายหาร

	<p>คุณแม่มีมะม่วง 600 กิโลกรัม นำมะม่วงมาจัดใส่ตะกร้า ตะกร้าละ 8 กิโลกรัม ถ้าแม่ขายมะม่วงตะกร้าละ 65 บาท แม่จะได้เงินทั้งหมดกี่บาท</p> <p>ประโยคสัญลักษณ์ (.....) = □ ตอบ <u>บาท</u></p>
	<p>หยกบริจาคหนังสือ จำนวน 16 กล่อง บรรจุก่อนละ 40 เล่ม ให้โรงเรียนในจังหวัดชลบุรี แห่งละ 5 เล่ม หยกสามารถบริจาคหนังสือให้โรงเรียนในจังหวัดชลบุรีได้กี่แห่ง</p> <p>ประโยคสัญลักษณ์ (.....) = □ ตอบ <u>แห่ง</u></p>
	<p>ถนนสายแรกยาว 25 กิโลเมตร ถนนสายที่สองยาวกว่าถนนสายแรก 53 กิโลเมตร ถนนทั้งสองสายมีความยาวรวมกันกี่กิโลเมตร</p> <p>ประโยคสัญลักษณ์ (.....) = □ ตอบ <u>กิโลเมตร</u></p>
	<p>อุ้มขายกุ้ง 25 กิโลกรัม ราคา กิโลกรัมละ 99 บาท แล้วนำเงินไปให้แม่ 1,500 บาท อุ้มเหลือเงินกี่บาท</p> <p>ประโยคสัญลักษณ์ (.....) = □ ตอบ <u>บาท</u></p>
	<p>บอลมีมะม่วง 2,460 กิโลกรัม ขายไป 2,375 กิโลกรัม ที่เหลือขายไป กิโลกรัมละ 25 บาท บอลขายมะม่วงได้เงินกี่บาท</p> <p>ประโยคสัญลักษณ์ (.....) = □ ตอบ <u>บาท</u></p>
	<p>พ่อมีเงิน 6,560 บาท แม่มีเงินมากกว่าพ่อ 4,580 บาท พ่อและแม่มีเงินรวมกันทั้งหมด กี่บาท</p> <p>ประโยคสัญลักษณ์ (.....) = □ ตอบ</p>