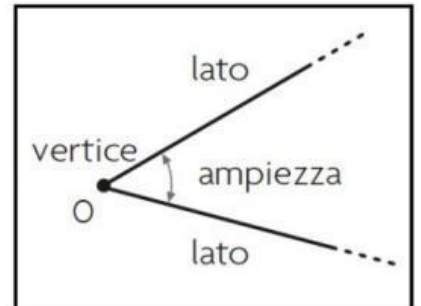


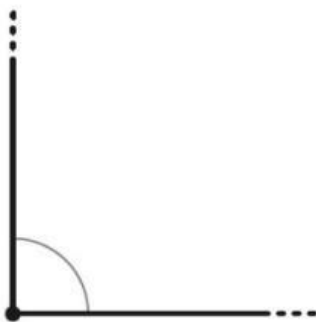
# ANGOLI

Osserva il disegno e completa le definizioni con i termini corretti.

- L'angolo è la parte di piano compresa tra due ..... che hanno origine nello stesso punto.
- Le due semirette sono i ..... dell'angolo.
- Il punto di origine O, si chiama .....
- Lo spazio racchiuso tra i due lati costituisce l' ..... dell'angolo.

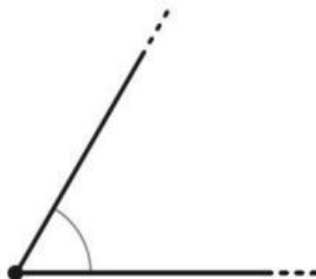


Scrivi il nome dell'angolo e completa.

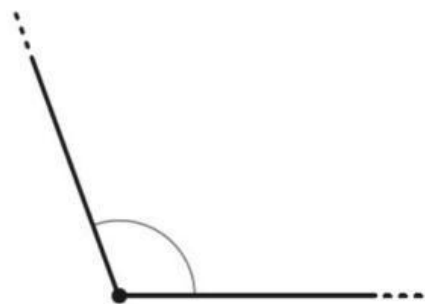


angolo .....

.....



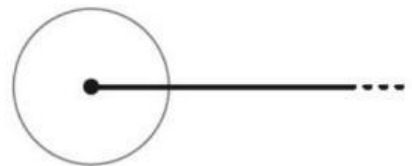
angolo .....;  
è ..... ampio  
di un angolo retto.



angolo .....;  
è ..... ampio  
di un angolo retto.



angolo .....;  
è ampio quanto ..... angoli retti.



angolo .....;  
è ampio quanto ..... angoli retti.