

Tahun Ajaran 2025 - 2026

LKPD

Lembar Kerja Peserta Didik

Nama :

Kelas :

KELOMPOK :





BELAJAR PETA



Informasi Umum Peta



1 JUDUL PETA

Menginformasikan jenis peta, seperti "Peta Bali".

2 MATA ANGIN

Alat bantu menentukan arah mata angin pada peta.

3 SKALA

Perbandingan jarak di peta dengan jarak sebenarnya.

4 SIMBOL

Gambar yang mewakili objek tertentu, seperti gunung.

5 LEGENDA

Penjelasan simbol-simbol yang terdapat pada peta.

6 TATA WARNA

Penjelasan simbol-simbol warna pada peta.


7 PETA SISIPAN

Peta yang yang disisipkan pada peta utama.

Nama: _____ Kelas: _____

MENGENAL PETA

Identifikasi dan jelaskan informasi umum dalam peta berikut!



1.

4.

2.

5.

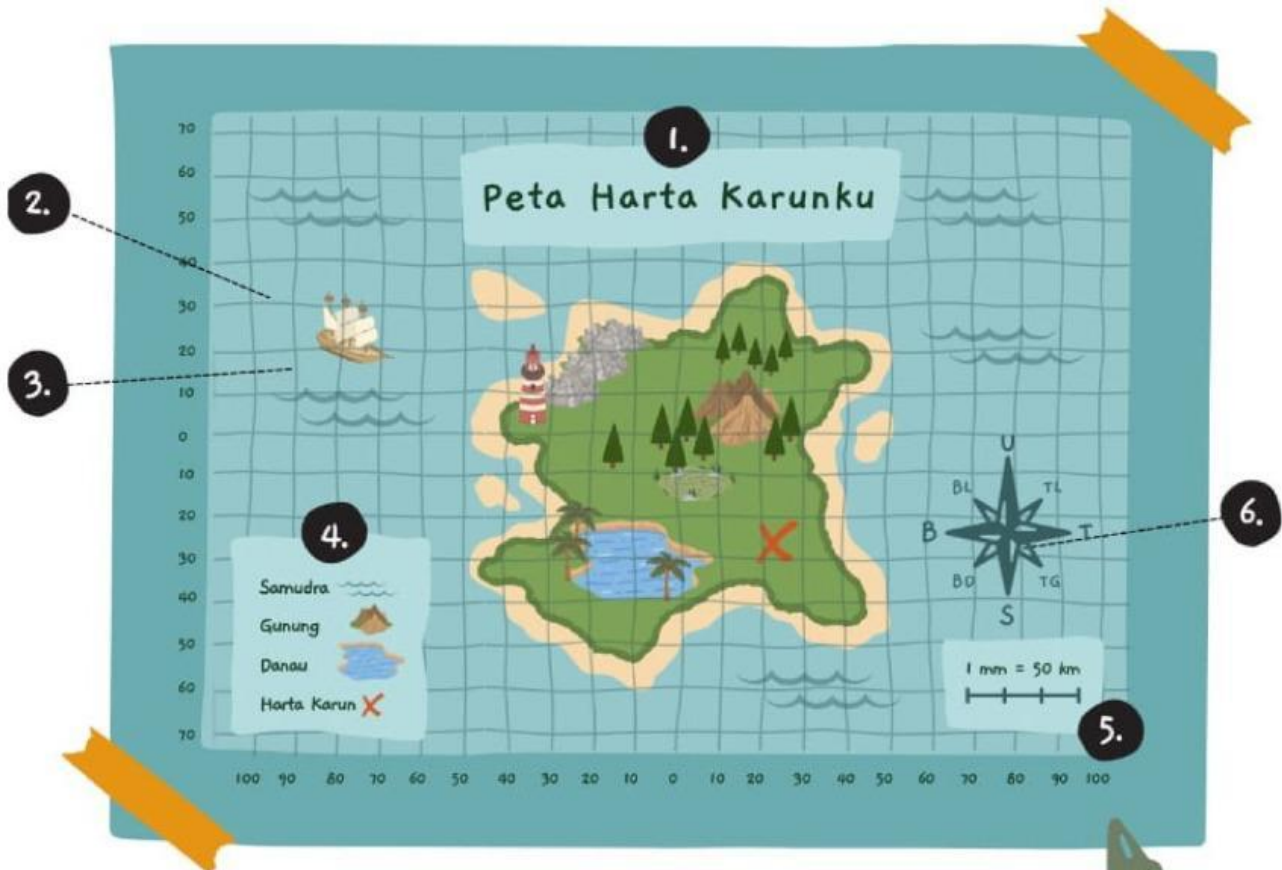
3.

6.

Nama: _____ Tanggal: _____

Identifikasi Bagian Peta

Berikut adalah peta sederhana. Sebutkan berbagai bagiannya dengan mengisi istilah yang tepat.



1. _____

4. _____

2. _____

5. _____

3. _____

6. _____



Referensi:

"Continents and Oceans of the World", [superteacherworksheets.com](https://www.superteacherworksheets.com),
https://www.superteacherworksheets.com/maps/continents-oceans_WMZBN.pdf

Mengenal Peta Indonesia



Sebutkan pulau-pulau dan tulis jawabannya di bawah ini!



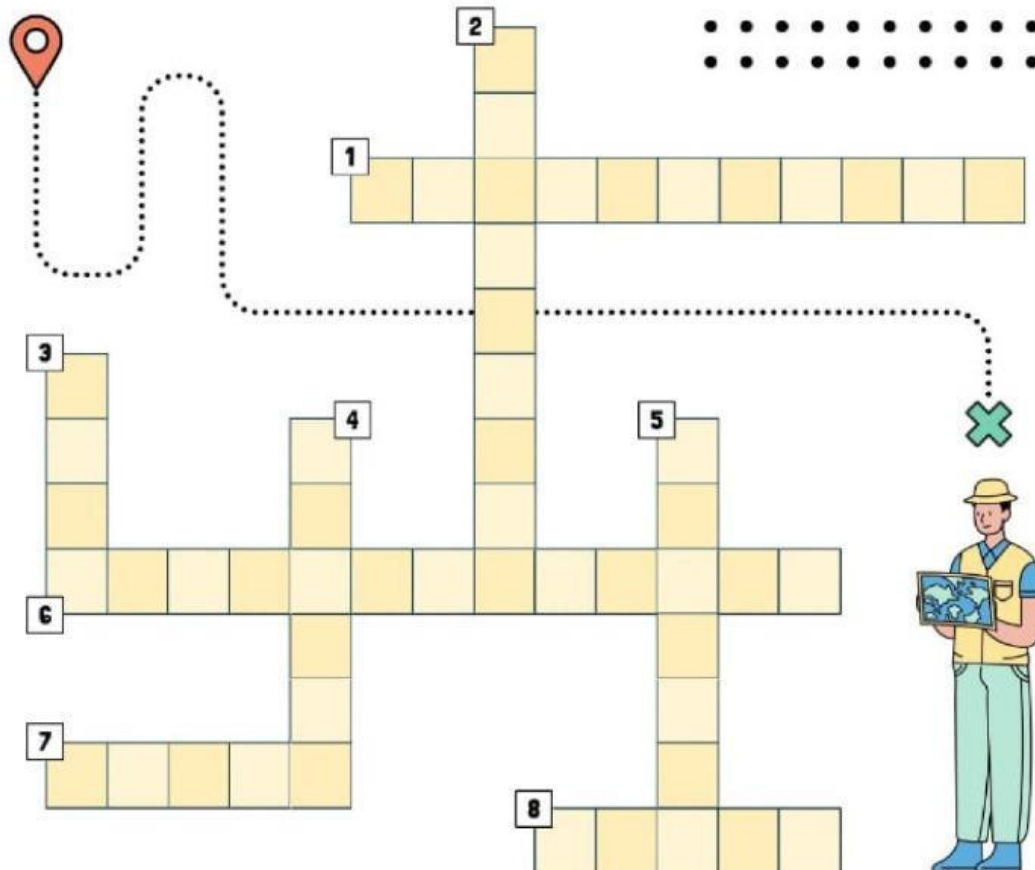
1		4		7	
2		5		8	
3		6			

Nama: _____ Kelas: _____



MENGENAL PETA

Selesaikan teka-teki silang di bawah ini dengan tepat!



Mendatar

1. Peta yang disisipkan pada peta utama.
6. Alat bantu menentukan arah mata angin pada peta.
7. Menginformasikan jenis peta.
8. Perbandingan jarak di peta dengan jarak sebenarnya.

Menurun

2. Penjelasan simbol warna pada peta.
3. Gambaran permukaan bumi pada bidang datar yang menggunakan skala tertentu.
4. Gambar kecil yang mewakili objek yang terdapat pada peta.
5. Berisi penjelasan simbol-simbol yang terdapat pada peta.

Nama:

Kelas:

SIMBOL PETA

Pasangkan simbol pada peta di bawah ini sesuai dengan artinya!



● Batas negara



● Gunung



● Pelabuhan



● Rel kereta api



● Waduk

● Sungai