



**Merupakan komunitas sosiaPEMERINTAH PROVINSI KALIMANTAN SELATAN
DINAS PENDIDIKAN DAN KEBUDAYAAN
SMA NEGERI 1 TAMBANG ULANG**

Terakreditasi C, Nomor 239/KEP/bap-SM/XI/KU/2017, tanggal 25 November 2017

Alamat : Jl. Ahmad Yani KM. 49 Kec. Tambang Ulang Kab.Tanah Laut

Email : smatambangulang@gmail.com, Web : <https://sman1tambangulang.com/> NPSN : 60702927



**ASESMEN SUMATIF SEKOLAH (GANJIL)
TAHUN PELAJARAN 2025/2026**

Mata Pelajaran : SOSIOLOGI

Kelas : XI

PILIH LAH PADA HURUF A, B, C, D, ATAU E PADA JAWABAN YANG BENAR!

1. Perhatikan kutipan artikel berikut!

Kreasi Sampah Ekonomi Kota (KRESEK) merupakan komunitas sosial yang fokus pada permasalahan lingkungan. Utamanya mengetahui permasalahan sampah dan cara mengelolanya menjadi barang bernilai ekonomis. Saat ini komunitas Kresek tidak hanya ada di Kudus, namun juga ada di Solo.

Komunitas Kresek kini tidak hanya menangani permasalahan sampah, namun juga membimbing dan membina masyarakat agar mampu mendaur ulang sampah menjadi bahan bernilai ekonomis. Hasil daur ulang tersebut dapat menambah penghasilan bagi masyarakat.

Kutipan artikel tersebut menunjukkan pembentukan kelompok pada tahap...

- Forming*
 - Storming*
 - Norming*
 - Performing*
 - Adjourning*
2. Rani berasal dari Sulawesi dan kuliah di salah satu Universitas di Yogyakarta. Ketika awal masuk kuliah, Rani diajak seniornya bergabung dalam Ikatan Mahasiswa Sulawesi Selatan (Ikami Sulsel). Sejak bergabung dengan komunitas tersebut, pembentukan kelompok sosial dipengaruhi oleh faktor...
- Kesamaan asal daerah
 - Kesamaan kepentingan
 - Pengalaman emosional
 - Kondisi geografis suatu daerah
 - Keinginan meningkatkan efektivitas kerja
3. Perhatikan ciri-ciri berikut!
- Kelompok tidak mampu menyelesaikan konflik dengan baik
 - Sebagian anggota kelompok tidak berupaya melakukan adaptasi
 - Struktur sosial dalam kelompok cenderung mengalami kemunduran
 - Setiap anggota kelompok bekerja sama dalam pencapaian tujuan bersama
 - Kelompok mulai membangun aturan, sistem kerja, dan prosedur kerja tiap anggota

Ciri-ciri pembentukan kelompok pada tahap *adjourning* ditunjukkan oleh angka...

- a. 1, 2, dan 3
- b. 1, 3, dan 4
- c. 2, 3, dan 5
- d. 2, 4, dan 5
- e. 3, 4, dan 5

4. Perhatikan tabel berikut!

No.	Faktor	Penjelasan
1	Persepsi	Sesuatu yang ingin dicapai oleh kelompok
2	Tujuan	Hubungan timbal balik antar anggota kelompok
3	Interaksi	Kesamaan pandangan antar anggota kelompok
4	Motivasi	Dorongan atau semangat setiap anggota kelompok
5	Independensi	Kebebasan setiap anggota untuk menyampaikan ide

Faktor yang perlu diperhatikan dalam pembentukan kelompok dan penjelasannya yang tepat ditunjukkan oleh kolom nomor...

- a. 1 dan 2
- b. 1 dan 3
- c. 2 dan 4
- d. 2 dan 5
- e. 3 dan 5

Perhatikan ilustrasi berikut untuk menjawab soal nomor 5 dan 6!

Bu Lusi membentuk komunitas pengusaha. Banyak pengusaha bergabung dalam komunitas untuk menjalin relasi. Relasi sangat dibutuhkan dalam dunia bisnis karena dapat mengembangkan usaha yang dimiliki. Anggota yang tergabung dalam komunitas sangat beragam, mulai pengusaha kecil, menengah, hingga pengusaha sukses. Oleh karena itu, setiap anggota dalam komunitas ini mencoba saling mendekatkan diri, berupaya mengenal satu sama lain, dan membangun kerja sama.

- 5. Berdasarkan ilustrasi tersebut, latar belakang terbentuknya kelompok sosial adalah...
 - a. Kesamaan kepentingan dan tujuan
 - b. Pengalaman praktis dan emosional
 - c. Perasaan senasib sepenanggungan
 - d. Dorongan untuk mempertahankan hidup
 - e. Kesamaan asal usul kedaerahan
- 6. Komunitas pengusaha seperti yang dijelaskan pada ilustrasi tersebut menunjukkan perkembangan kelompok pada tahap...
 - a. *Norming*
 - b. *Forming*
 - c. *Storming*
 - d. *Adjourning*
 - e. *Performing*

7. Penduduk Desa Margoyoso masih menjalankan tradisi kumpul bersama keluarga besar. Acara tersebut dalam masyarakat Jawa disebut kumpul *trah*. Kumpul *trah* biasanya diikuti oleh semua anggota keluarga besar mulai dari anak, cucu, hingga cicit. Tujuan kumpul *trah* adalah menjalin silaturahmi antaranggota keluarga besar. Ilustrasi tersebut menunjukkan pembentukan kelompok sosial berdasarkan kesamaan...
- Ciri fisik
 - Keturunan
 - Asal daerah
 - Kepentingan
 - Visi dan misi

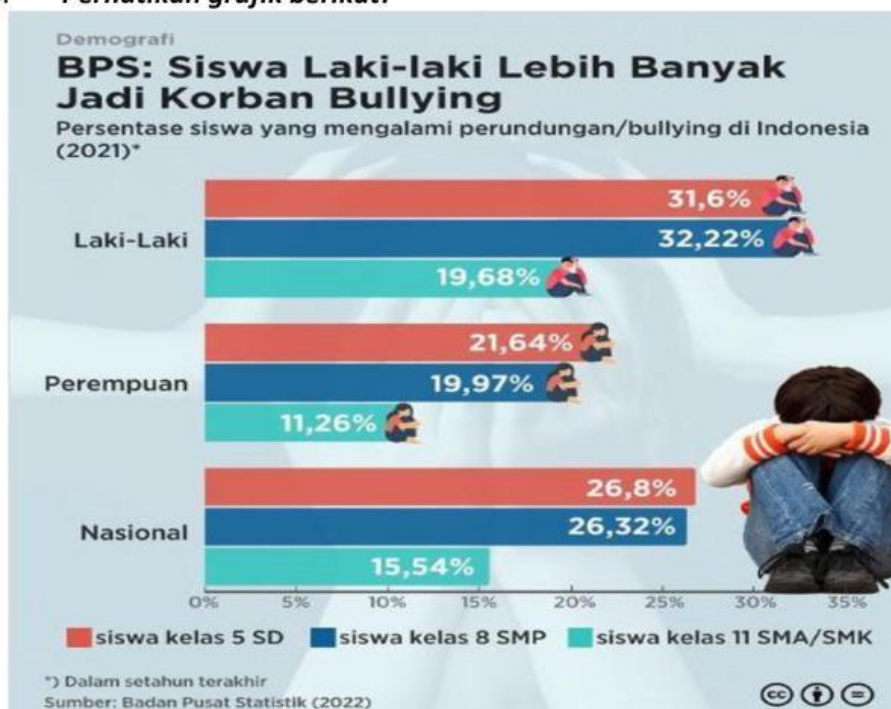
8. Perhatikan gambar berikut!



Gambar di atas menunjukkan kelompok sosial berupa...

- Paguyuban
 - Patembayan
 - Kerumunan
 - Membership*
 - Publik
9. Perhatikan artikel berikut!
- Penyalahgunaan tanaman kecubung di Banjarmasin, Kalimantan Selatan, sebagaimana video viral akhir-akhir ini, sebetulnya bukan hal baru. Kecubung sudah lama dikenal dan digunakan sebagian orang sebagai "narkoba alternatif" yang murah dan mudah didapatkan. Media sosial diduga membuat informasi tentang kecubung menyebar lagi sehingga banyak yang ingin mencobanya. Hingga Sabtu (13/07/2024) tercatat 47 orang dibawa ke Rumah Sakit Jiwa (RSJ) Sambang Lihum di Kecamatan Gambut, Kabupaten Banjar, Kalimantan Selatan. Mayoritas pasien berasal dari Kota Banjarmasin. Mereka masuk RSJ dalam waktu hampir bersamaan sejak (05/07/2024). Mereka mengalami gangguan mental karena terindikasi mengonsumsi racikan tanaman kecubung.
- Sumber : Kompas.id/apps/baca/nusantara/2024/07/13*
- Apa jenis upaya penyelesaian masalah yang sudah dilakukan berdasarkan artikel tersebut...
- Rehabilitasi
 - Persuasif
 - Preventif
 - Refresif
 - Koersif

10. Perhatikan grafik berikut!



https://www.instagram.com/databoks.id/p/C3kYoskS5Xo/?img_index=databoks.id

Berdasarkan data pada demografi tersebut. Berapa persen angka perundungan yang terjadi pada Perempuan di Tingkat SMP...

- a. 11,26%
 - b. 21,64%
 - c. 26,32%
 - d. 26,8%
 - e. 19,97%
11. Pemberitaan yang kita dapatkan seringkali menampilkan tentang korupsi, kolusi, nepotisme, pencurian, pelecehan, diskriminasi, kriminalitas dan lain-lain. Semua itu menunjukkan bahwa masih banyak permasalahan sosial yang menjadi pekerjaan rumah untuk kita selesaikan. Masalah sosial timbul karena individu gagal dalam proses sosialisasi. Dalam bersikap dan berperilaku tidak berpedoman pada nilai-nilai sosial dan nilai-nilai kepercayaan yang ada dalam masyarakat. Dari teks diatas yang *bukan* penyebab terjadi kriminalitas di Masyarakat adalah...
- a. Pertentangan dalam Masyarakat
 - b. Memiliki ideologi yang sama
 - c. Kepadatan jumlah penduduk
 - d. Terjadinya kesenjangan ekonomi
 - e. Mentalitas yang labil

12. Tabel Jumlah Pengangguran di desa Tanipah Kecamatan Aluh-Aluh 6 Tahun Terakhir

TAHUN	JUMLAH PENGANGGURAN
2019	70 Orang
2020	78 Orang
2021	79 Orang
2022	80 Orang
2023	84 Orang
2024	86 Orang
JUMLAH	477

Dari data table diatas, maka jumlah rata-rata pengangguran di desa Bunipah pertahun ...

- 79,5
 - 80,5
 - 81,5
 - 82,5
 - 83,5
13. Perhatikan gambar berikut untuk menjawab soal nomor 14 dan 15.
13. Berdasarkan survei pada bulan Juni 2022 KPAI, manakah pernyataan yang benar?



Pilihan	Kriteria yang di survey	Hasil survei
a	Responden menyampaikan kondisi ayah biologis kepada anak	49,9%
b	Ayah kandung mengakui anak secara biologis dan legal	84,9%
c	Orang tua yang berkonflik di 17 provinsi	61 responden
d	Akta lahir anak hanya mencatat anak ibu	65,4 %
e	Responden menyampaikan kondisi ibu biologis kepada anak	110 responden

14. Data orang tua berkonflik berjumlah 61 responden dari 17 provinsi, maka rata-rata orang tua berkonflik dari setiap provinsi adalah....
- 2,88 responden
 - 3,85 responden
 - 2,35 responden
 - 3,58 responden
 - 4,58 responden

Bacalah teks berikut dengan cermat!

Judul: Luka Lama Sampit: Menapaki Jejak Konflik Etnis Berdarah

Mei 2001 menjadi bulan kelam dalam sejarah Kalimantan Tengah. Konflik etnis antara Dayak dan Madura meletus, menelan korban jiwa lebih dari 1.000 orang dan memaksa puluhan ribu orang mengungsi. Luka lama Sampit, begitu tragedi ini dikenal, masih membekas hingga hari ini.

Konflik Sampit bermula dari serangkaian peristiwa, termasuk perkelahian antar individu, isu penculikan anak, dan rasa tidak puas masyarakat Dayak terhadap pendatang Madura. Ketegangan yang menumpuk meledak menjadi kerusuhan massal yang brutal.

Peristiwa Sampit menjadi pengingat kelam tentang bahaya prasangka, diskriminasi, dan ketimpangan sosial. Konflik ini juga menunjukkan pentingnya membangun toleransi, saling menghormati, dan menyelesaikan konflik secara damai.

Tanggal: 14 Mei 2024

Sumber: BBC News Indonesia

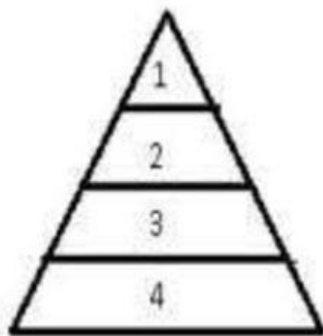
15. Termasuk dalam jenis konflik apakah yang terjadi di Sampit pada artikel di atas...
- Konflik Politik
 - Konflik Etnis
 - Konflik Ekonomi
 - Konflik Agama
 - Konflik Internasional

16. **Perhatikan ilustrasi berikut!**

Seorang selebriti membentuk komunitas sosialita yang anggotanya terdiri dari pemilik online shop fashion, tas dan aksesoris. Komunitas ini sudah berjumlah 4000 orang. Setiap setahun sekali mereka mengadakan acara gathering. Mereka berasal dari dalam maupun luar negeri. Mereka bisa saling memesan dan berbelanja barang-barang branded, baju, tas bahkan perhiasan. Berdasarkan wacana diatas dapat disimpulkan adanya permasalahan sosial yang terjadi, yaitu...

- Terjadi kesenjangan sosial antar kelompok dalam masyarakat
- Terbentuknya komunitas di dunia maya atas dasar kesamaan kepentingan
- Adanya stratifikasi sosial berdasarkan kekayaan dan kehormatan
- Pengelompokan sosial berdasarkan karier dan persamaan kesenangan
- Terbentuknya kelompok masyarakat yang eksklusif atas dasar ekonomi

17. Perhatikan bagan berikut ini!



1. Brahmana; Pndeta
2. Ksatria; Raja, Bangsawan, ksatria
3. Waisya; Petani, Pedagangan, peternak
4. Sudra; Pekerja, Pelayan

Struktur di atas merupakan susunan lapisan masyarakat di India berupa kasta yang disebut ...

- Diferensiasi sosial
- Stratifikasi sosial
- Masalah sosial
- Kesetaraan sosial
- Interaksi sosial

18. Perhatikan pernyataan-pernyataan berikut.

- (1) Pemberian beasiswa bagi siswa berprestasi
- (2) Fenomena ketidaksetaraan gender dalam dunia kerja
- (3) Peningkatan angka pengangguran akibat pandemi Covid-19
- (4) Demonstrasi penolakan kenaikan harga bahan bakar minyak
- (5) Seorang remaja yang lebih sering menghabiskan waktu di kamar

Berdasarkan pernyataan-pernyataan tersebut, kondisi sosial yang merupakan permasalahan sosial dalam masyarakat ditunjukkan oleh pernyataan nomor...

- 1, 2, dan 3
- 1, 3, dan 5
- 2, 3, dan 4
- 2, 4, dan 5
- 3, 4, dan 5

19. Kenakalan remaja seperti tawuran, geng motor, dan konsumsi minuman keras seolah-olah menjadi permasalahan sosial yang sulit diatasi. Beberapa masalah kenakalan remaja tersebut dikategorikan sebagai permasalahan sosial apabila...
- Membahayakan golongan elite
 - Melibatkan Lembaga sosial tertentu
 - Mengganggu dan merugikan banyak orang
 - Menyebabkan kesenjangan sosial dalam masyarakat
 - Menimbulkan terjadinya perubahan peran sosial seseorang

20. Perhatikan tabel berikut!

No.	X
1)	Kasus perceraian antarartis dianggap tidak tabu untuk diekspos di public
2)	Banyak warga depresi karena harta bendanya hanyut diterjang banjir
No.	Y
1)	Jumlah pasien akibat virus Covid-19 meningkat
2)	Jumlah pasien gangguan jiwa meningkat

Permasalahan sosial yang disebabkan oleh faktor psikologis ditunjukkan oleh kombinasi...

- X1 dan X2
- X1 dan Y1
- X2 dan Y2
- X2 dan Y1
- Y1 dan Y2

Bacalah teks berikut untuk menjawab soal nomor 23 dan 24!

Sikap Intoleran Menghambat Persatuan dan Kesatuan Bangsa

Ujaran kebencian (*hate speech*) merupakan perkataan, perilaku, tulisan, ataupun pertunjukan yang mengandung kebencian dan bersifat menyerang yang ditujukan untuk menyakiti orang atau kelompok lain, baik secara langsung maupun tidak langsung. Ujaran kebencian dapat dilakukan melalui berbagai media, antara lain melalui orasi keglatan kampanye, spanduk, jejaring media sosial, penyampaian pendapat di muka umum (*demonstrasi*), ceramah keagamaan, media massa cetak maupun elektronik, dan pamflet.

Dewasa ini, ujaran kebencian di media massa marak terjadi karena efek kebebasan yang tidak bertanggung jawab. Banyak bermunculan pernyataan-pernyataan yang saling menjelekkan serta mengandung kebencian dan rasa permusuhan antarindividu atau antarkelompok di berbagai media, terutama melalui platform media sosial. Hal tersebut berdampak negatif terhadap kehidupan bermasyarakat. Dampak tersebut antara lain sebagai berikut.

- 1) Dapat memprovokasi massa sehingga memicu tindakan anarki.
- 2) Mengganggu ketenteraman, kenyamanan, dan ketertiban umum.
- 3) Melanggar hak dan kebebasan orang lain.
- 4) Dapat memecah belah persatuan dan kesatuan bangsa.
- 5) Melanggar aturan dan norma susila yang diakui umum.
- 6) Melanggar peraturan hukum yang berlaku.

Oleh karena itu, setiap anggota masyarakat harus bisa memahami hal-hal apa saja yang termasuk ujaran kebencian dan menjaga diri untuk tidak melakukan ujaran kebencian. Dengan demikian, diharapkan kerukunan dan perdamaian di dalam kehidupan bermasyarakat dapat terjaga.

21. Berdasarkan teks tersebut, ujaran kebencian dapat berakibat pada...

- a. Menghambat terjadinya keberagaman pandangan
- b. Munculnya rasa ketidakadilan di dalam kelompok
- c. Mengganggu stabilitas budaya asli atau daerah
- d. Mempersulit masuknya budaya asing
- e. Menghambat proses integrasi sosial

22. Perhatikan pernyataan-pernyataan berikut. Berdasarkan teks, *klik* kolom **Sesuai** jika pernyataan tersebut sesuai dengan teks atau pada kolom **Tidak Sesuai** jika pernyataan tersebut tidak sesuai dengan isi teks.

	Pernyataan	Sesuai	Tidak Sesuai
(A)	Ujaran kebencian di media massa dapat meningkatkan persatuan dan kesatuan bangsa		
(B)	Kesadaran warga masyarakat sebagai bagian dari NKRI merupakan kebutuhan yang sangat urgen bagi kelestarian persatuan dan kesatuan bangsa		
(C)	Menyampaikan pendapat merupakan hak pejabat negara saja yang telah tercantum dalam UUD NRI 1945		
(D)	Sanksi yang keras harus dikenakan bagi warga negara yang secara sadar atau tidak sadar mengutarakan ujaran kebencian di muka umum		
(E)	Kebebasan berpendapat hendaknya disertai dengan penuh rasa tanggung jawab		

23. Pemberian sifat tertentu secara subjektif terhadap seseorang berdasarkan kategori kelompoknya disebut...

- a. Marginalisasi
- b. Subjektivitas
- c. Stereotipe
- d. Subordinasi
- e. Dominasi

24. Hakikatnya setiap manusia merupakan bagian dari kelompok sosial. Kelompok sosial terkecil dan pertama dari seorang individu adalah...

- a. Sekolah
- b. Keluarga
- c. Paguyuban
- d. Teman bermain
- e. Lingkungan sekitar

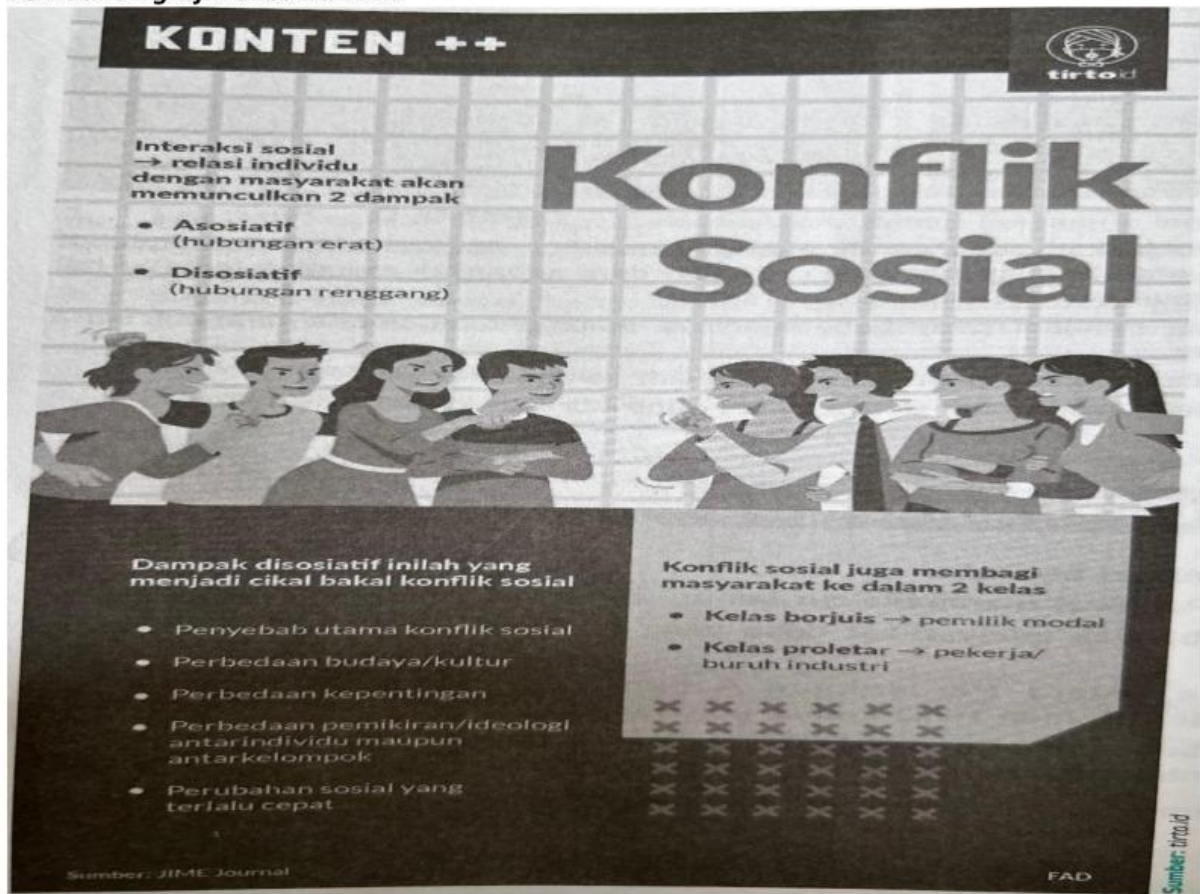
25. Perhatikan teks berikut.

Dalam suatu kelas, para siswa sedang bermusyawarah untuk menentukan destinasi *study tour*. Tiba-tiba, ketua kelas memutuskan untuk memilih Kota A sebagai destinasi karena teman-teman yang dekat dengannya memilih kota tersebut. Hal tersebut menimbulkan protes dari siswa lain karena ketua kelas mengutamakan kepentingan kelompoknya dibandingkan kepentingan bersama.

Ilustrasi tersebut merupakan contoh permasalahan sosial akibat...

- a. Perbedaan etnis
 - b. Perbedaan agama
 - c. Perbedaan profesi
 - d. Pengelompokan sosial
 - e. Mengutamakan kepentingan bersama
26. Pada suatu kelompok masyarakat, terdapat satu orang yang melanggar tata tertib lalu lintas. Kelompok lain beranggapan bahwa seluruh anggota kelompok tersebut tidak disiplin dalam berkendara. Anggapan akan sifat tertentu dari suatu kelompok oleh kelompok lain yang ditunjukkan pada ilustrasi di atas tersebut...
- a. Kolusi
 - b. Stereotipe
 - c. Dominasi
 - d. Subordinasi
 - e. Marginalisasi
27. Dengan pesatnya kemajuan di bidang teknologi dan disebarkan melalui media massa seperti surat kabar, majalah, televisi, internet, dan handphone membawa dampak bagi mobilitas anak muda. Anak muda mulai mrngacuhkan orang lain dan sibuk dengan handphone masing-masing. Di sisi lain, golongan tua masih berpegang teguh dengan nilai-nilai lama dan mengutamakan interaksi secara langsung sehingga sering terjadi pertentangan. Dari gambaran kasus tersebut dapat disimpulkan bahwa penyebab konflik adalah...
- a. Perbedaan kepentingan antar individu karena umur yang berbeda
 - b. Perbedaan kepribadian karena latar belakang kebudayaan
 - c. Perbedaan pola pikir antardua generasi yang berbeda
 - d. Perbedaan kepentingan individu kelompok
 - e. Perubahan sosial yang cepat dalam masyarakat

Perhatikan grafik di bawah ini!



28. Berdasarkan infografik, berilah tanda centang atau klik pada hal-hal yang dapat memicu terjadinya konflik sosial. (Jawaban lebih dari satu)

- (A) Perbedaan Kepentingan
- (B) Perubahan sosial yang terlalu cepat
- (C) Munculnya kelas proletar dalam masyarakat
- (D) Munculnya relasi antara individu dan masyarakat
- (E) Perbedaan pemikiran antarindividu dan antarkelompok

29. Perhatikan pernyataan-pernyataan berikut.

- (1) Borjuis
- (2) Proletar
- (3) Asosiatif
- (4) Disosiatif

Berdasarkan infografik, hal-hal yang muncul akibat interaksi sosial adalah...

- a. (1) dan (2)
- b. (1) dan (3)
- c. (2) dan (3)
- d. (2) dan (4)
- e. (3) dan (4)

Bacalah kutipan artikel berikut ini!

Mengisi Liburan dengan Kegiatan Positif

Menghadapi liburan semester, para siswa sudah merencanakan kegiatan untuk mengisi liburannya dengan penuh semangat. Ada yang ingin mengadakan kegiatan bersama dengan keluarganya, ada yang ingin mengadakan kegiatan bersama teman-teman sekolahnya, dan ada pula yang ingin membuat kegiatan dengan teman-teman yang memiliki kegemaran atau hobi yang sama.

Liburan adalah waktu penyegaran bagi setiap orang. Sudah selayaknya liburan direncanakan dan dipersiapkan sebaik mungkin sehingga dapat bermanfaat bagi pelakunya.

Dalam kegiatan mengisi liburan, seorang siswa sebaiknya memilih kegiatan yang dapat memacu kreativitas, antara lain berolahraga, berkebun, berkunjung ke museum, berkemah di alam terbuka, melakukan pendakian bukit atau gunung, atau melakukan kegiatan sosial di lingkungan sekitar. Kita juga dapat menyelenggarakan pasar murah atau berkunjung ke tempat sanak saudara dalam rangka mempererat tali silaturahmi. Apabila dilaksanakan dengan niat yang baik serta dengan perencanaan dan pelaksanaan yang baik, seluruh kegiatan tersebut akan memberi manfaat yang baik bagi para siswa.

Fungsi liburan bagi kita semua, termasuk bagi para siswa, adalah memberikan manfaat untuk kesehatan secara umum, yaitu mengusir kejenuhan, menghilangkan stres dan kelelahan, meningkatkan produktivitas, menimbulkan rasa kepuasan dalam hidup, menyehatkan badan, serta meningkatkan kualitas hubungan baik dengan keluarga maupun dengan orang lain. Setelah liburan, diharapkan para siswa akan merasa lebih segar dan bersemangat serta dapat memulai kegiatan di sekolahnya lagi.

30.

Perhatikan pernyataan-pernyataan berikut.

- (1) Kegiatan liburan harus dilakukan bersama teman sekelas
 - (2) Persiapan dana yang banyak dan waktu yang panjang penting untuk liburan
 - (3) Kegiatan untuk mengisi liburan perlu dipersiapkan secara matang
 - (4) Perencanaan yang baik harus mempertimbangkan kemampuan biaya, fisik, dan segi kemanfaatannya
 - (5) Kegiatan yang dilakukan memberikan manfaat bagi pelaku dan masyarakat sekitar
- Berdasarkan teks, syarat keberhasilan liburan bagi para siswa ditunjukkan pada nomor...

- a. (1), (2), dan (3)
- b. (1), (2), dan (4)
- c. (2), (3), dan (4)
- d. (2), (4), dan (5)
- e. (3), (4), dan (5)