











Marca la respuesta correcta.






Indica en cuál de estas imágenes hay un círculo delante de un cuadrado.

				
<input type="checkbox"/>	<input type="checkbox"/>	<input type="checkbox"/>	<input type="checkbox"/>	<input type="checkbox"/>






Indica en cuál de estas imágenes hay un triángulo debajo de un círculo.

				
<input type="checkbox"/>	<input type="checkbox"/>	<input type="checkbox"/>	<input type="checkbox"/>	<input type="checkbox"/>

Indica cuál de estas figuras NO es un rectángulo.

				
<input type="checkbox"/>	<input type="checkbox"/>	<input type="checkbox"/>	<input type="checkbox"/>	<input type="checkbox"/>

Indica cuál de estas figuras es polígono de cinco lados.

				
<input type="checkbox"/>	<input type="checkbox"/>	<input type="checkbox"/>	<input type="checkbox"/>	<input type="checkbox"/>