



LKPD

Matematika

Tema: Mengenal Bangun Datar Segiempat


Nama kelompok: _____

Anggota kelompok : 1. _____
2. _____
3. _____
4. _____




Bangun Datar

Tulislah nama-nama bangun datar di bawah ini.




Tentukan bangun datar yang sesuai dengan kertas kado disamping dan gambarlah kotak yang sesuai dengan bentuk kertas kado




•

•



•

•




•

•




Tentukan bangun datar yang sesuai dengan kertas kado disamping dan gambarlah kotak yang sesuai dengan bentuk kertas kado



•




•



•



•



•



•