



AKTIVITAS 1











Nama :

Kelas :

KODING PENJUMLAHAN

Kerjakanlah operasi hitung penjumlahan di bawah ini dengan benar!

1	2	3	4	5	6	7	8
							





AKTIVITAS 2

Nama : _____



Kelas : _____

Pengurangan

Kerjakanlah operasi hitung matematika di bawah ini!



 



AKTIVITAS 3

Nama:

Kelas:

Operasi Hitung Dasar

Hitunglah penjumlahan dan pengurangan di bawah ini, lalu hubungkan dengan jumlah yang sama!

$2+4$

•

•

2

$4+4$

•

•

4

$5-2$

•

•

6

$8-4$

•

•

5

$3+2$

•

•

8

$1+1$

•

•

3





AKTIVITAS 4



Nama :



Tanggal :



AYO BERHITUNG

Hitunglah hasil dari operasi penjumlahan dan isikan di kotak yang disediakan!


	+		=	<div style="border: 1px solid black; height: 40px; width: 100%;"></div>
---	---	---	---	---

	+		=	<div style="border: 1px solid black; height: 40px; width: 100%;"></div>
--	---	--	---	---

	+		=	<div style="border: 1px solid black; height: 40px; width: 100%;"></div>
---	---	---	---	---

	+		=	<div style="border: 1px solid black; height: 40px; width: 100%;"></div>
---	---	---	---	---

	+		=	<div style="border: 1px solid black; height: 40px; width: 100%;"></div>
---	---	---	---	---

	+		=	<div style="border: 1px solid black; height: 40px; width: 100%;"></div>
---	---	---	---	---



AKTIVITAS 5

Pengurangan dengan Gambar

Nama:

Kelas:

Coret jumlah es krim sesuai dengan angka yang dikurangkan, lalu tulis hasilnya di kotak yang tersedia!



$10 - 5 = \boxed{5}$



$10 - 3 = \boxed{}$



$10 - 6 = \boxed{}$



$10 - 4 = \boxed{}$



$10 - 7 = \boxed{}$



$10 - 8 = \boxed{}$



$10 - 9 = \boxed{}$