


LKPD

BANGUN RUANG SISI DATAR

Perhatikan Video Berikut ini!



Perhatikan Materi Presentasi berikut:



4

TEKSFIELD

Bangun ruang sisi datar yang lima sisi, sembilan rusuk dan 6 titik sudut disebut ...

5

SINGLE CHOICE

Bangun ruang sisi datar yang hanya memiliki 7 sisi, 15 rusuk dan 10 titik sudut disebut

6

CHECKBOXES

Yang merupakan bagian dari bangun ruang sisi datar adalah :

| | | | |
|--------------------------|--------|--------------------------|--------|
| <input type="checkbox"/> | KUBUS | <input type="checkbox"/> | PRISMA |
| <input type="checkbox"/> | TABUNG | <input type="checkbox"/> | LIMAS |

7

SELECT

Yang merupakan bagian dari bangun ruang sisi Lengkung adalah :

| | | | | | | | |
|--------------------------|-------|--------------------------|-------|--------------------------|-------|--------------------------|--------|
| <input type="checkbox"/> | KUBUS | <input type="checkbox"/> | TABUN | <input type="checkbox"/> | LIMAS | <input type="checkbox"/> | PRISMA |
|--------------------------|-------|--------------------------|-------|--------------------------|-------|--------------------------|--------|

8

WORD SEARCH

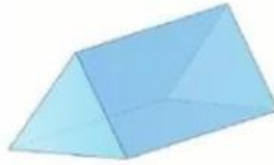
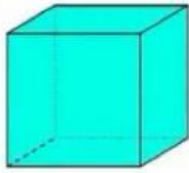
CARI KATA YANG BERKAITAN DENGAN BANGUN RUANG

| | | | | | | | |
|---|---|---|---|---|---|---|---|
| L | K | L | P | H | K | V | B |
| I | K | U | B | U | S | P | A |
| M | G | H | L | K | J | R | L |
| G | B | H | I | S | S | I | O |
| S | V | D | M | G | H | S | K |
| A | D | A | A | B | A | M | I |
| K | F | D | S | U | T | A | R |
| E | W | A | V | E | R | A | C |

9

SPEAK

sebutkan nama Bangun ruang berikut ini dengan tepat



1

LISTENING


Dengarkan Suara berikut dan tuliskan jawabannya



1

Drag and Drop

Pindahkan Bangun ruang di samping ke Kotak yang telah disediakan dengan Tepat!



Prisma Segitiga



Limas Segiempat



Limas Segitiga

1

JOIN AND ARROW

Tarik garis untuk memasangkan bentuk bangun ruang dan nama bangun ruang dibawah ini!



PRISMA SEGITIGA



LIMAS SEGITIGA



BALOK

LIMAS SEGIEMPAT