



PRUEBA DE DIAGNÓSTICO

CIENCIAS NATURALES

**PRIMER AÑO BÁSICO
2021**

CUREPTO, marzo 2021

Escucha atentamente las instrucciones de tu profesora y responde las siguientes preguntas pinchando o marcando la respuesta que consideres correcta.

1. ¿Cuál es el alimento más saludable?



HELADOS

A



PAPAS FRITAS

B



FRUTAS

C

2. ¿Cuál es el principal órgano de los sentidos que debe ser utilizando al momento de cruzar la calle?



A



B



C

3. ¿Qué elementos necesita un animal para vivir?



Agua

A



Carne

B



Aire

C

4. ¿Cuáles de estos animales se encuentran en estado adulto?



A



B

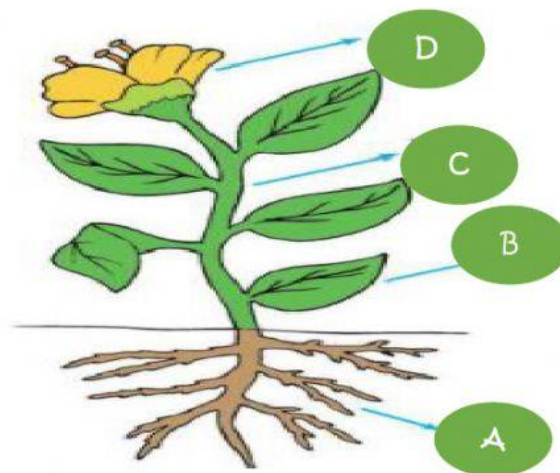


C




D

5. Observa la imagen y pincha o marca la letra que representa la raíz de la planta.




6. Observa la imagen y marca los círculos que representan plantas.




7. Marca el objeto que sea más flexible de estos tres:



Rama



Alambre



Regla

8. A un frasco con agua se le agrega una pequeña cantidad de sal, ¿cuál de las siguientes imágenes representa lo que le ocurrió al agua al agregarle sal? Marca la respuesta correcta.



A



B



C

9. Una llave se rompió y está goteando. Se pensó arreglarla con un material, dando varias vueltas la zona del tubo en que está roto. Marca con cual material es más indicado para envolver el tubo y controlar la gotera.



Tira de goma

A



Papel higiénico

B



Hilo de coser



C

10. Observa las imágenes que representan las estaciones del año.

Ordena arrastrando las estaciones faltantes en los cuadrados según corresponda.



OTOÑO



11.

Observa las imágenes que corresponden al día y la noche .
Luego idéntica los elementos que diferencian al día y la noche arrastrando cada uno de ellos donde corresponde



DÍA		NOCHE	

Excelente terminaste la evaluación.
¡Muy Bien!

