


1 Observa las imágenes y describe cada una de ellas

2 Une con línea los siguientes nombres relacionados al deporte

Fútbol



Nadar

Natación



Trotar

Ciclismo



Tiros al arco

Atletismo



Montar Bicicleta

3 Selecciona con un “clic” el deporte más reconocido en la historia

Baloncesto

Atletismo

Natación

Fútbol





4 “Arrastra” el nombre de estos deportes y “ubícalos” debajo de su imagen correspondiente

Béisbol

Tenis

UFC

Natación

5 Selecciona con un “clic” cual de estos es un deporte acuático

Gimnasia

Patinaje

Natación

Rugby

6 Une con línea el deportista con su respectivo deporte

Nadador ●

Ciclista ●

Boxeador ●

Arquero ●

● Tiro con arco

● Boxeo

● Natación

● Ciclismo

7 Seleccione con un “clic” si la pregunta es verdadero o falso

● El atletismo incluye carreras, saltos y lanzamientos.

Verdadero

Falso

8 Complete el enunciado:

● El deporte donde se utiliza una raqueta y una pelota pequeña se llama.....

9 “Arrastra” el nombre de estos deportes y “ubícalos” debajo de su imagen correspondiente.

Pista de atletismo

Ring

Cancha de tenis

Piscina

10 Selecciona con un “clic” si la pregunta es verdadero o falso

● En el Baloncesto los jugadores pueden avanzar con el balón sin botarlo

Verdadero

Falso