


FICHA DE APLICACIÓN MATEMÁTICA

1. Calcula el total de objetos. Escribe una adición de sumandos iguales y la multiplicación que corresponda.

a.

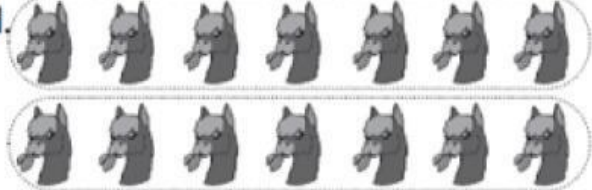


$$\square + \square = \square$$

$$\square \text{ veces } \square \text{ es } \square$$

$$2 \times \square = \square$$

d.

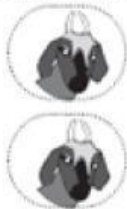


$$\square + \square = \square$$

$$\square \text{ veces } \square \text{ es } \square$$

$$2 \times \square = \square$$

b.




$$\square + \square = \square$$

$$\square \text{ veces } \square \text{ es } \square$$

$$2 \times \square = \square$$

e.




$$\square + \square = \square$$

$$\square \text{ veces } \square \text{ es } \square$$

$$2 \times \square = \square$$

c.




$$\square + \square + \square = \square$$

$$\square \text{ veces } \square \text{ es } \square$$

$$3 \times \square = \square$$

f.



$$\square + \square + \square = \square$$

$$\square \text{ veces } \square \text{ es } \square$$

$$3 \times \square = \square$$

