

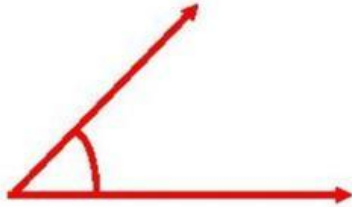



REPASAMOS LAS CLASES DE ANGULOS

Fecha: 19 noviembre 2025

Escribe el nombre de los ángulos.


Une con una línea de color el ángulo a su nombre que le corresponde.



Angulo cuadrado

Angulo obtuso

Angulo agudo



Angulo plano



Angulo llano

Angulo concluso



Angulo punteagudo

Angulo recto

Lee bien y resuelve los problemas de ángulos.

1.-

La puerta del salón del 4to grado "E" está cerrada, como hace mucho calor, el profesor le pide a la estudiante Angie abrir la puerta hasta formar un ángulo recto, ella abre solo 50° .

¿Cuántos grados más le faltaría abrir la puerta para formar un ángulo recto?



Marca con una equis (X) la alternativa correcta y escribe el ¿Por qué?

a

Le faltaría 50°

Por que _____

b

Le faltaría 40°

d

Le faltaría 90°

e

Le faltaría 180°

2.-

Los niños del cuarto Grado "E" de Primaria, compraron una pizza y la partieron en varias porciones ¿Qué ángulo tendrá la porción de Pizza que comió Alizon?



Respuesta.- _____

Porqué.- _____

Lee bien y resuelve los problemas de ángulos.

3.-

Por el cumpleaños de Edward,
su papá trajo una rica pizza
¿Qué ángulo tendrá la porción
de la pizza que se sirvió Lidia?
Y ¿Porqué?



Respuesta.- _____

Porqué.- _____



4.-

Leah preparo unas ricas ga-
lletitas de chocolate por el
frio ¿Qué ángulo tendrá la
porción de galleta que hay
en el plato? Y ¿Por qué?

Respuesta.- _____

Porqué.- _____

5.-

La Subdirectora trajo una torta, partida en tres porciones ¿Qué ángulos tendrá cada porción de la torta? Y ¿Por qué?

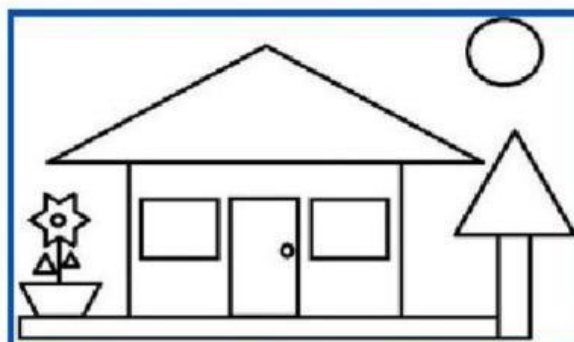


Respuesta.-

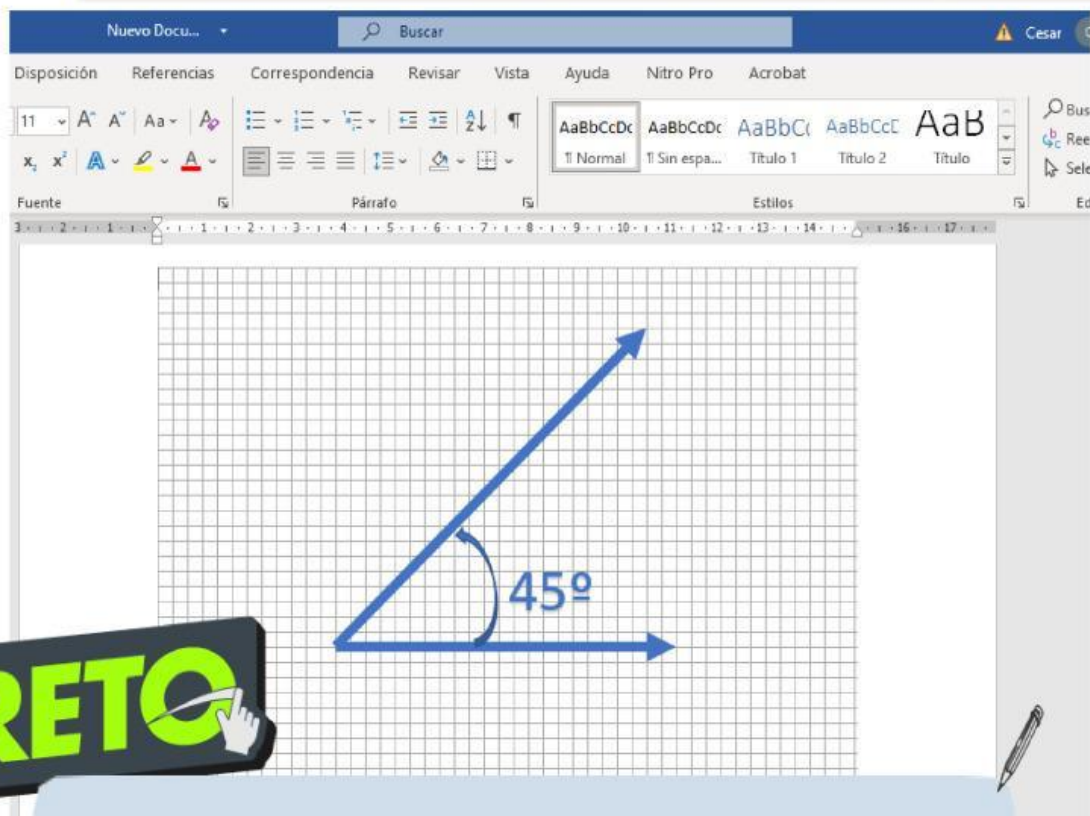
Porqué.-

6.-

Leticia hizo el siguiente dibujo ¿Qué ángulos observa en el dibujo?



Nombre del ángulo	Cantidad de ángulos


EL RETO

HACIENDO USO DEL PROGRAMA WORD, CREA EL
ANGULO DE 45 GRADOS USANDO VISTA LINEAS
DE CUADRÍCULA


Clic aquí


ESCALERA DE LA METACOGNICION

Ahora completamos nuestra escalera de la metacognición . Recuerda responder con sinceridad.



¿En que otras ocasiones voy a utilizar lo que he aprendido?

¿Para qué me ha servido?

¿Qué me ha resultado más fácil? ¿ y más difícil?

¿Qué he aprendido?