

Nama: _____

Kelas: _____

KEBERSIHAN DIRI SENDIRI

Bacalah setiap soal dengan cermat dan teliti, kemudian jawablah dengan menggambar tanda silang (X) pada salah satu jawaban a, b, atau c yang kamu anggap benar.



1. Kegiatan apa yang sedang dilakukan anak di atas?
 - a. Membaca buku
 - b. Mencuci tangan
 - c. Menggosok gigi
2. Saat sedang makan apa yang tidak boleh kita lakukan?
 - a. Makan dengan tenang
 - b. Mengecap makanan
 - c. Tidak berbicara saat makan
3. Agar badan selalu sehat sebaiknya kita melakukan?
 - a. Olahraga
 - b. Tidak pernah mencuci tangan
 - c. Makan makanan basi

4. Agar tetap bersih, kita dianjurkan untuk mandi berapa kali sehari?
 - a. Satu kali
 - b. Tidak pernah
 - c. Dua kali



5. Benda di atas digunakan untuk apa?
 - a. Menggosok gigi
 - b. Mencuci baju
 - c. Mencuci tangan
6. Aku mencuci tangan menggunakan?
 - a. Sampo
 - b. Sabun dan air
 - c. Sikat dan pasta gigi
6. Menggosok gigi dilakukan sebelum?
 - a. Sarapan dan sebelum tidur
 - b. Bermain bola
 - c. Mencuci tangan

Nama :

Kelas :

GERAK LOKOMOTOR

Pasangkanlah gambar di bawah ini dengan nama gerak lokomotor yang benar!



Berjalan



Berguling



Memanjat



Berlari



Meluncur










Melompat

Nama :

Kelas:

MAKANAN UNTUK GIGI SEHAT

Dewi ingin giginya sehat. Bantulah ia memilih makanan yang bisa membuat giginya sehat maupun yang bisa membuat giginya sakit!

| No. | Makanan |  Gigi Sehat |  Gigi Tidak Sehat |
|-----|---|--|---|
| 1 |  | | |
| 2 |  | | |
| 3 |  | | |
| 4 |  | | |
| 5 |  | | |

Nama :

Kelas :

POSISI DAN LETAK

Tentukan posisi dan letak benda berikut ini.



Daniel _____ kardus



Daniel _____ kardus



Rosa _____ kardus



Rosa _____ kardus



Daniel _____ kardus



Rosa _____ kardus



Nama :

Kelas :

POSISI DAN LETAK

Tentukan posisi dan letak benda berikut ini.



Daniel _____ kardus



Daniel _____ kardus



Rosa _____ kardus



Rosa _____ kardus



Daniel _____ kardus



Rosa _____ kardus

Nama :

Kelas :

POSISI DAN LETAK

Tentukan posisi dan letak benda berikut ini.



Daniel di atas kardus



Daniel di bawah kardus



Rosa di dalam kardus



Rosa di antara kardus



Daniel di depan kardus



Rosa di belakang kardus

Nama:

Kelas:

Tempat Hidup

Gunting dan tempelkan gambar binatang pada tempat hidup yang sesuai

Darat

Laut

